

Prénom : .....

Date : .....

<h2 style="margin: 0;">Histoire CE2</h2> <h3 style="margin: 0;">Evaluation 1<sup>er</sup> trimestre</h3>
--

- *Se repérer dans le calendrier*
- *Connaitre des outils de mesure du temps*
- *Se repérer sur une frise chronologique*
- *Connaitre les 6 périodes de la frise chronologique de l'histoire des hommes*

A	A-	ECA	NA		

- 1. Dans le calendrier ci-dessous, entoure une semaine en vert.  
 Colorie les jours fériés des mois de novembre, décembre et janvier en rouge.  
 Nomme un autre mois qui comporte 31 jours : .....  
 Ecris la date de demain en abrégé : .....**

NOVEMBRE 2015							DÉCEMBRE 2015							JANVIER 2016							FÉVRIER 2016						
lun	mar	mer	jeu	ven	sam	dim	lun	mar	mer	jeu	ven	sam	dim	lun	mar	mer	jeu	ven	sam	dim	lun	mar	mer	jeu	ven	sam	dim
						1		1	2	3	4	5	6					1	2	3	1	2	3	4	5	6	7
2	3	4	5	6	7	8	7	8	9	10	11	12	13	4	5	6	7	8	9	10	8	9	10	11	12	13	14
9	10	11	12	13	14	15	14	15	16	17	18	19	20	11	12	13	14	15	16	17	15	16	17	18	19	20	21
16	17	18	19	20	21	22	21	22	23	24	25	26	27	18	19	20	21	22	23	24	22	23	24	25	26	27	28
23	24	25	26	27	28	29	28	29	30	31				25	26	27	28	29	30	31	29						
30																											

**2. Complète :**


Une année compte .....mois, ..... semaines et ..... saisons.

1 journée dure ..... heures, 1 heure dure ..... minutes.

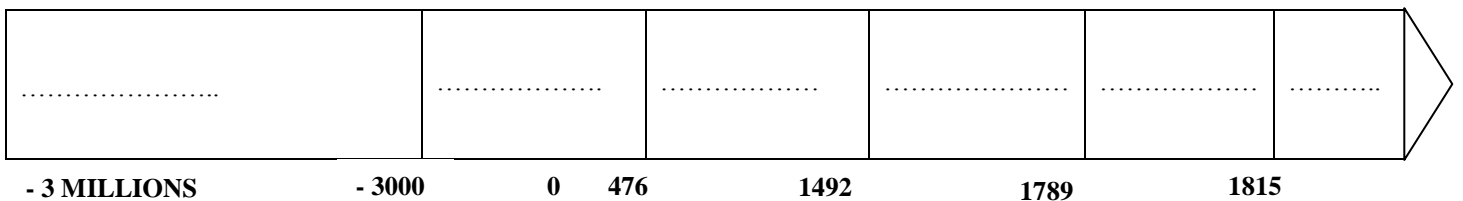
**3. Nomme quelques outils de mesure du temps :**

- .....
- .....
- .....

**4. Sur la frise ci-dessous, indique ta date de naissance et colorie ta ligne de vie en vert.**



**5. Complète la frise historique avec le nom des 6 périodes**



Prénom : .....

Date : .....

<b>Histoire CE2</b>			
<b>Evaluation 1<sup>er</sup> trimestre</b>			

- *Se situer dans les siècles*
- *situer quelques dates de la préhistoire*
- *Connaitre les lères traces de vie humaine*
- *Connaitre les caractéristiques du Paléolithique*
- *Connaitre les caractéristiques du Néolithique*

A	A-	ECA	NA

**7. Combien de temps dure un siècle ?**

.....

**8. Complète la phrase :**

Le Paléolithique est l'âge de .....

**9. Avec quels matériaux les hommes du Paléolithique fabriquaient-ils leurs armes et leurs outils ?**

.....

**10. Avec quoi se nourrissaient-ils ?**

.....

**11. Où habitaient-ils ?**

.....

On dit qu'ils étaient .....

**12. Où a été découvert le premier homme vivant en France ?**

.....



**13. Ecris une légende sous les dessins suivants (explique les techniques,**

**indique les lieux, donne des dates...):**



.....
.....
.....
.....

.....
.....
.....
.....

Prénom : .....

Date : .....

**Histoire CE2**  
**Evaluation 1<sup>er</sup> trimestre**



.....

.....

**17. Complète la phrase :**

Le Néolithique qui veut dire ..... est l'âge de

.....


**18. Qu'est-ce qui change dans le mode de vie des hommes du Néolithique :  
nourriture, habitat ?**

.....

.....

On dit qu'ils sont devenus .....

**19. Entoure les habitations du Paléolithique en bleu  
et celles du Néolithique en orange.**



Prénom : .....

Date : .....

**Histoire CE2**  
**Evaluation 1<sup>er</sup> trimestre**

**20. Quelles plantes cultivait-on au Néolithique ?**

.....

**21. Quels animaux élevait-on ?**

.....

**22. Les hommes du Néolithique sont devenus des .....  
habiles dans la réalisation d'objets.**


**Ecris quelles activités artisanales tu vois sur cette image :**



.....
.....
.....
.....
.....
.....
.....
.....
.....
.....
.....
.....

Connaitre Histoire CE2 Hatier

**23. Comment appelle-t-on ces mégalithes ?**



**24. Quel nouveau matériau les hommes ont-ils utilisé à la fin du Néolithique ?**

.....

**25. Qu'est-ce qui marque la fin de la Préhistoire et nous fait entrer dans l'Histoire ?**

.....