
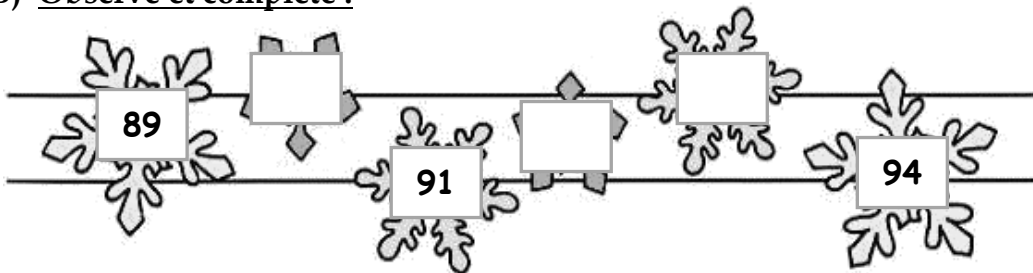


1 Les nombres jusqu'à 99A) Relie chacun à son sac de billes :B) Observe et complète :C) Ecris en lettres :

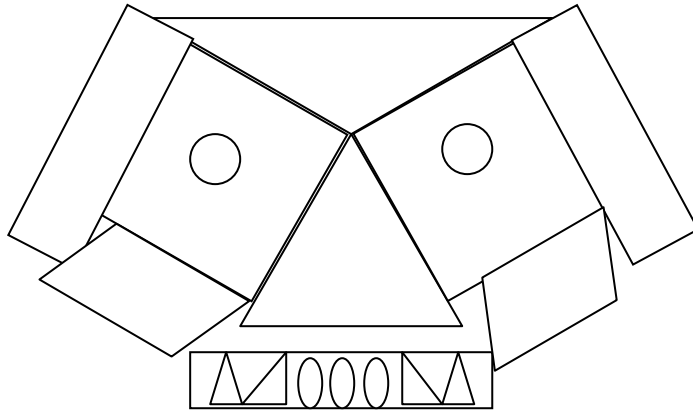
99

97

94

90

## 2 Les figures planes



**Colorie les**

- \* triangles en **jaune**
- \* rectangles en **vert**
- \* carrés en **orange**
- \* cercles en **rouge**
- \* autres figures en **marron**

**Combien comptes-tu de triangles ?**

Je vois \_\_\_\_\_ triangles.

## 3 Tracer des triangles

A) Trace 2 triangles. Leurs sommets sont sur des points :



B) Termine de tracer ces triangles :

