

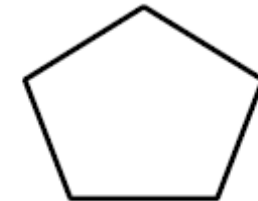
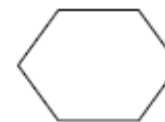


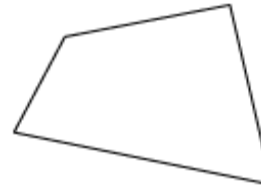
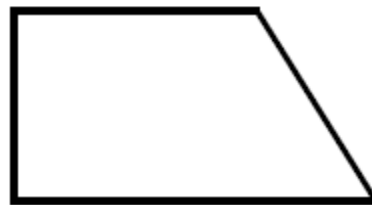
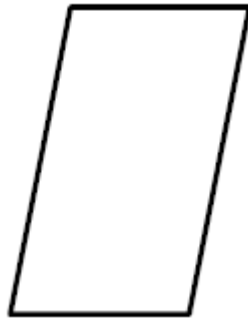
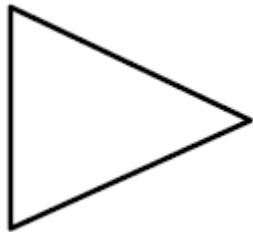
1

Donne la définition d'un quadrilatère

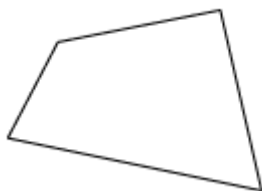
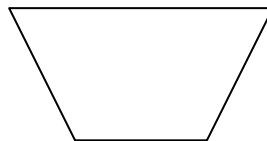

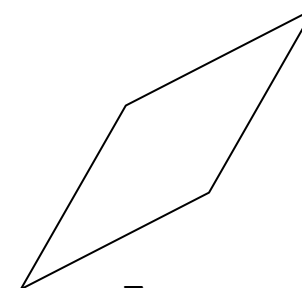
Un quadrilatère est _____

2

Entoure les formes qui sont des quadrilatères



Range les formes selon leurs caractéristiques

**A****B****C****D****E****F**

Caractéristiques	Formes
Possède 4 côtés	
Possède 4 côtés isométriques	
Possède 4 angles droits	
Possède au moins deux côtés parallèles	
Possède des côtés opposés parallèles deux à deux	
Possède des côtés opposés isométriques deux à deux	



Qui suis-je ?

Je suis un quadrilatère qui possède 4 côtés isométriques et 4 angles droits.	
Je suis un quadrilatère qui possède des côtés isométriques deux à deux, des côtés opposés parallèles deux à deux et 4 angles droits.	
Je suis un quadrilatère qui possède au moins deux côtés opposés parallèles.	
Je suis un quadrilatère qui possède 4 côtés isométriques.	
Je suis un quadrilatère qui possède des côtés isométriques deux à deux et des côtés opposés parallèles deux à deux.	
Je suis un polygone qui possède quatre côtés.	



Vrai ou faux ?

Un quadrilatère est un polygone qui a 3 côtés.

Le trapèze est un quadrilatère.

Un hexagone est un quadrilatère.

Les quadrilatères ont toujours au moins deux côtés parallèles.

Un losange a quatre angles droits.

Un croissant de lune est un polygone.

Le rectangle a quatre côtés isométriques.

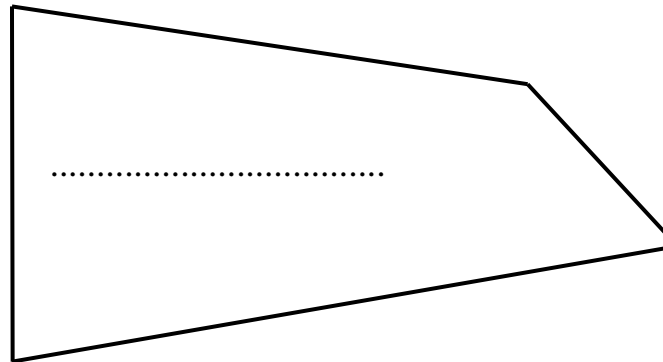
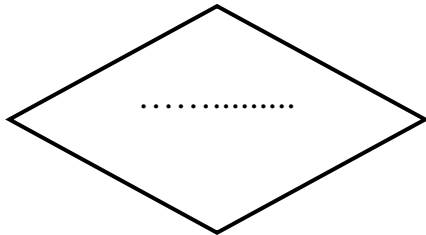
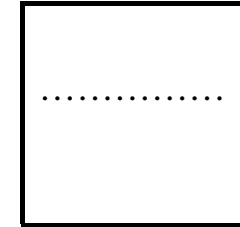
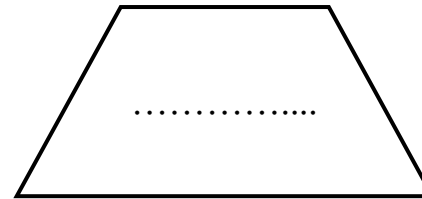
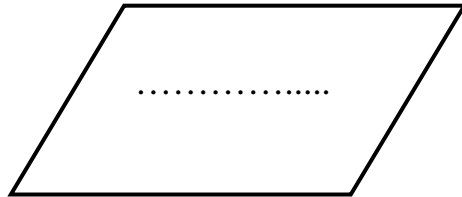
Un polygone est une forme géométrique dont tous les côtés sont tracés à la latte.

Un parallélogramme possède quatre angles droits.

Vrai	Faux




Nomme chacune des formes géométriques



Caractéristiques	Formes
Possède 4 côtés	
Possède 4 côtés isométriques	
Possède 4 angles droits	
Possède au moins deux côtés parallèles	
Possède des côtés opposés parallèles deux à deux	
Possède des côtés opposés isométriques deux à deux	



Trace les formes

Un carré de 4 cm de côté

Un rectangle de 5 cm de longueur et de 2 cm de largeur

Un losange non carré

Un parallélogramme

