


Prénom : _____

Date :



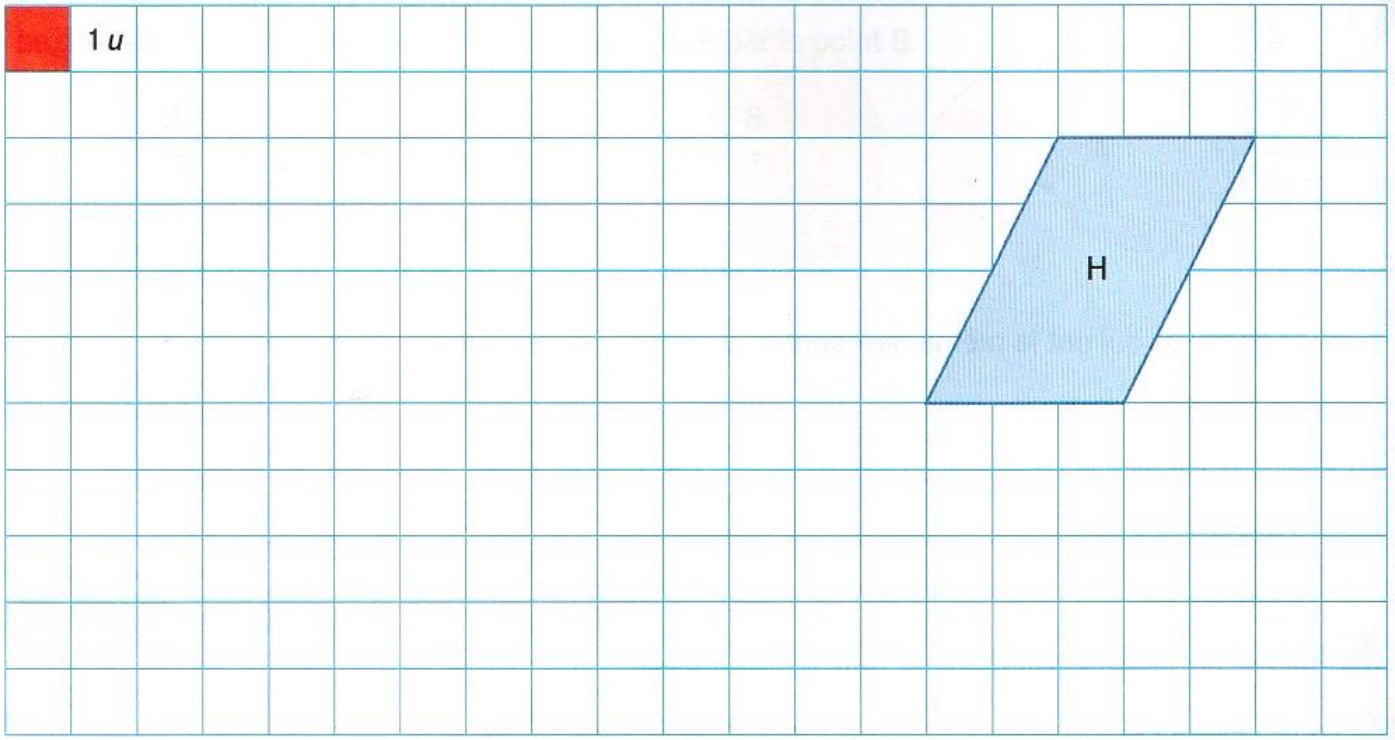
Grandeurs et mesures : Mesurer des aires

Tracer une figure à partir d'une aire donnée

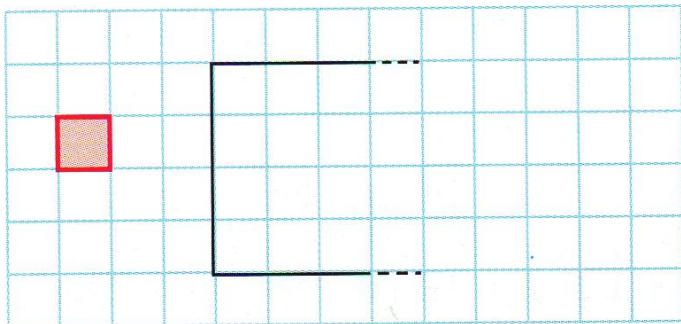
CM2

Fiche d'exercices n°11
Leçon 4

→ **Exercice 1** : Sur le quadrillage, **construis** : 2 rectangles différents A et B qui ont pour aire **18 u** ; deux triangles différents C et D qui ont pour aire **4 u** ; un rectangle E qui a la même aire que la surface H.



→ **Exercice 2** : **Termine** ce rectangle afin que son aire soit de 30 unités.



→ **Exercice 3** : **Dessine** un rectangle d'aire 2 unités et demie avec pour unité l'aire : du **rectangle rose** ; du **rectangle orange**

