

Prénom : \_\_\_\_\_

Date : \_\_\_\_\_



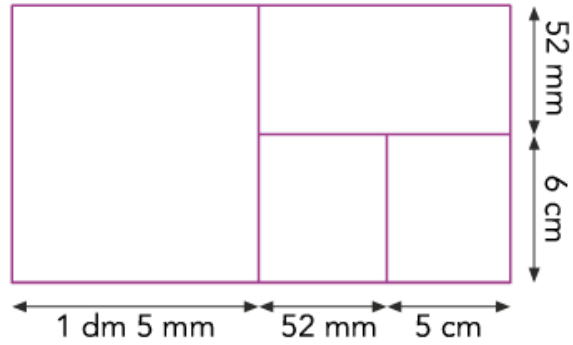
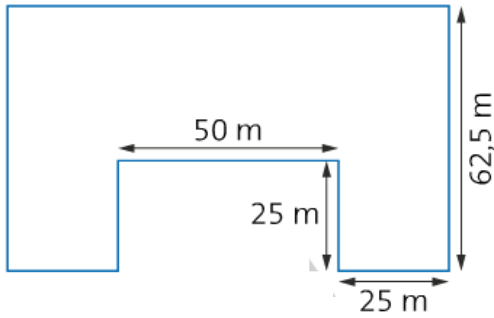
## Grandeurs et mesures : Le périmètre

Résoudre des problèmes impliquant des périmètres

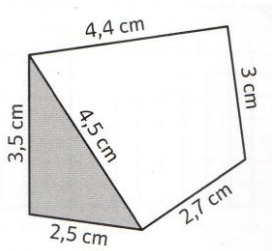
CM2

Fiche d'exercices n°5  
Leçon 2

➔ **Exercice 1** : Calcule le périmètre de ces figures.

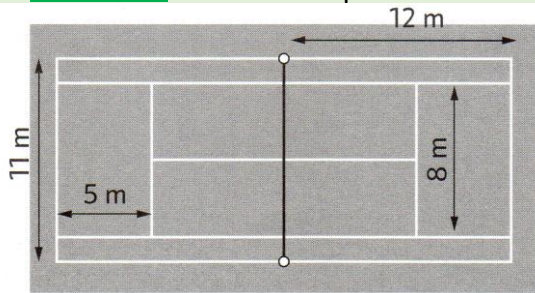


➔ **Exercice 2** : Réponds aux différentes questions.



- Quel est le périmètre de la figure grise ?
- Quel est le périmètre de la figure blanche ?
- Quel est le périmètre du polygone formé par les deux figures ?

➔ **Exercice 3** : Résous les problèmes suivants.



Une joueuse de tennis veut s'échauffer avant son match en effectuant trois tours du court de tennis.

Quelle distance en mètres aura-t-elle parcouru ?

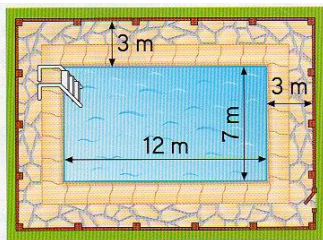
---



---



---



Quelle est la longueur de la grille qui entoure la piscine ?

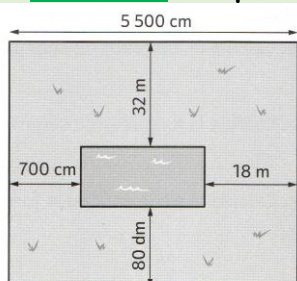
---



---

*Pour aller plus loin !*

➔ **Exercice 4** : Réponds aux questions suivantes :



Dans un jardin carré se trouve une piscine rectangulaire.

- Calcule en mètres la longueur de la piscine ?
- Calcule en mètres la largeur de la piscine ?
- Calcule en mètres le périmètre de la piscine ?