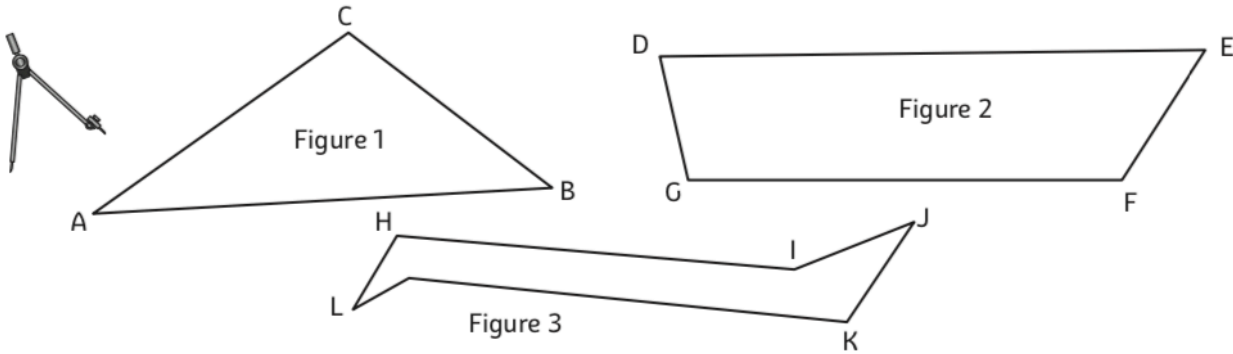


**Exercices- Périmètre-CM2**

**COMPARER DES PÉRIMÈTRES**

① **Construis** en reportant, à l'aide de ton compas, un segment de même longueur que le périmètre de chaque figure.



P (Figure 1)

---

P (Figure 2)

---

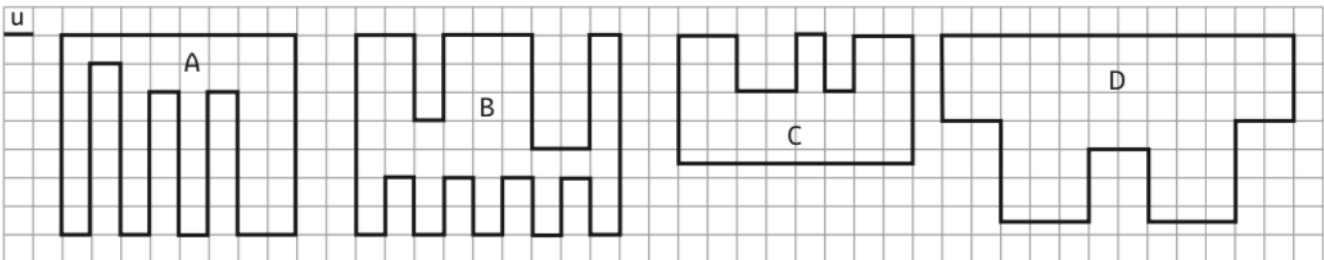
P (Figure 3)

---

**Range** ces figures dans l'ordre croissant de leur périmètre : .....

**TROUVER LA VALEUR DES PÉRIMÈTRES**

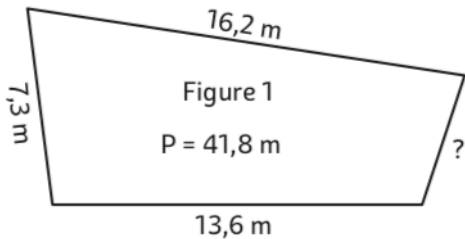
② **Trouve** le périmètre de ces figures en unités de longueurs (u).



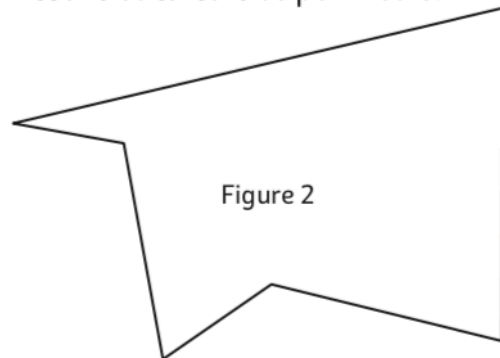
P (Figure A) = ..... P (Figure B) = ..... P (Figure C) = ..... P (Figure D) = .....

**CALCULER ET MESURER DES PÉRIMÈTRES**

③ **Calcule** en mètres la donnée manquante.




④ **Mesure et calcule** ce périmètre.



P (fig2) = .....



