

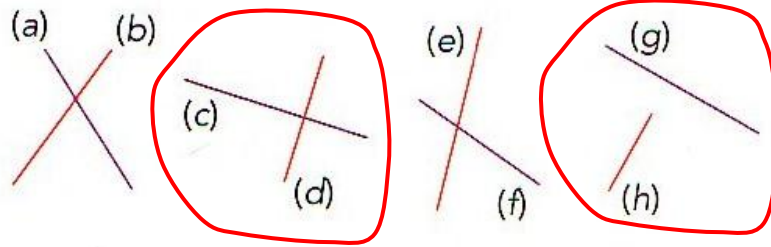


Espace et géométrie : Droites perpendiculaires et droites parallèles

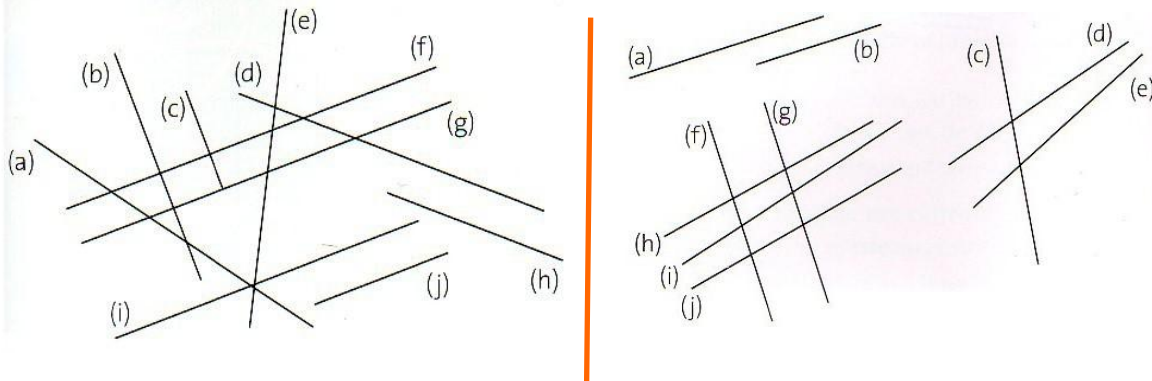
Reconnaître des droites parallèles et perpendiculaires

Fiche d'exercices n° 2
Leçon 2

Exercice 1 : Avec ton équerre, trouve les droites perpendiculaires entre elles.



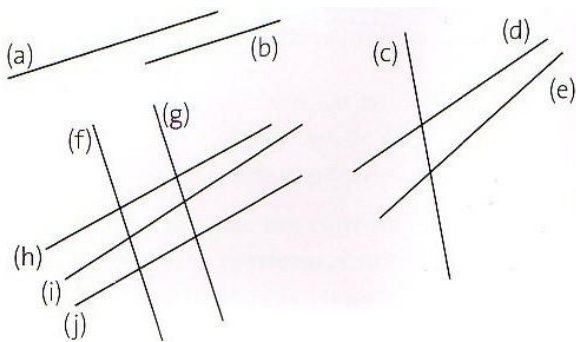
Exercice 2 : Trouve les droites perpendiculaires entre elles.



(b) et (f) (b) et (g) (b) et (i)
(c) et (f) (c) et (g) (c) et (i)

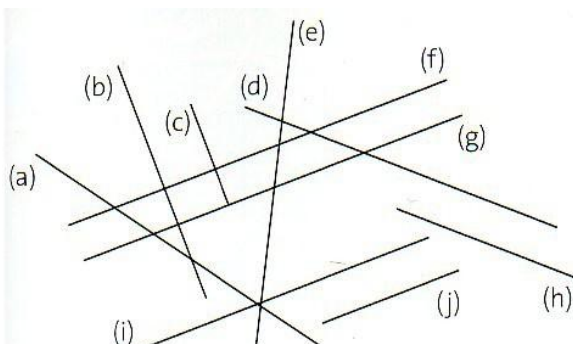
(a) et (f) (b) et (f)
(a) et (g) (b) et (g)

Exercice 3 : Nomme les droites parallèles.



(a) // (b)
(f) // (g)
(h) // (j)

Exercice 4 : Trouve les droites parallèles entre elles.



(b) // (c)
(d) // (h)
(f) // (g)
(f) // (i)
(f) // (j)
(g) // (i)
(g) // (j)
(i) // (j)