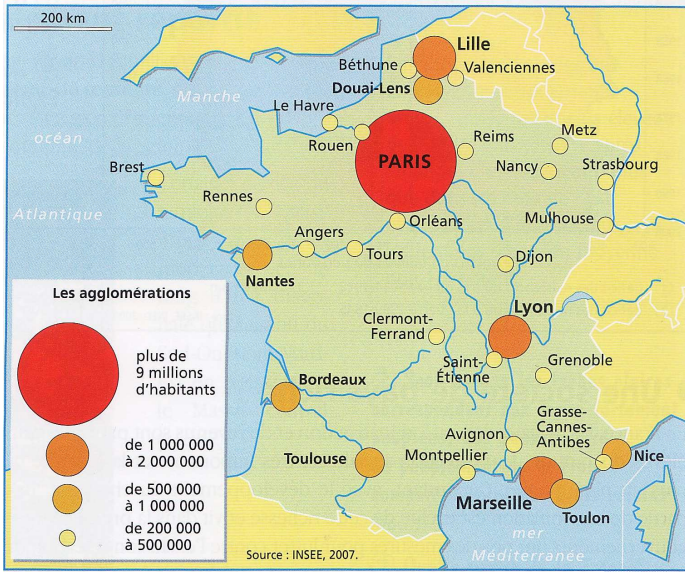




# Les grandes villes de France

Géo ...



Doc. 1 : Les grandes agglomérations françaises.

Quelle ville à plus de 9 millions d'habitants ?

Quelles villes ont entre 1 et 2 millions d'habitants ?

Quelles villes ont entre 500000 et 1000000 habitants ?

Quelles villes sont entre 200000 et 500000 habitants ?

Repère ta région, ta ville ou la ville la plus proche.

De quel réseau urbain fais-tu partie ?

Regarde jusqu'ou s'étend la zone d'influence de ta capitale régionale.

Quelle ville a la plus grande zone d'influence ?



Doc 2 : le rayonnement régional des villes françaises.





# Les grandes villes de France

Géo ....

Savoir construire un graphique

Agglomération	Nombre d'habitants
Paris	9 600 000
Marseille	1 350 000
Lyon	1 350 000
Lille	1 100 000
Nice	900 000
Toulouse	760 000
Bordeaux	750 000
Nantes	550 000
Toulon	500 000
Douai-Lens	500 000

Quel est l'écart du nombre d'habitant entre Paris et Marseille ?

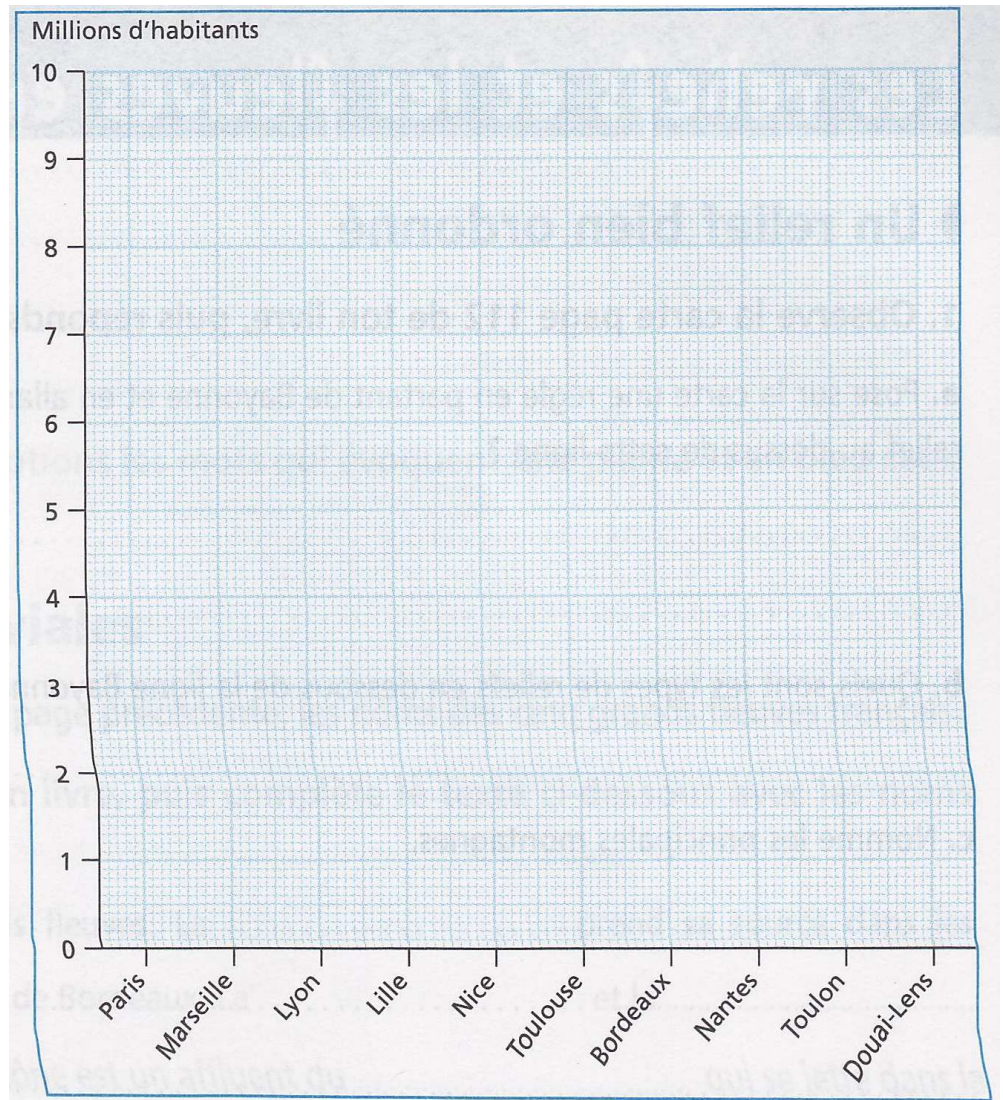
.....

Retrouve-t-on un tel écart entre deux autres agglomérations ?

.....

Doc1 : Nombre d'habitants des 10 principales agglomérations françaises

Utilise les données du document 1 pour construire un graphique.



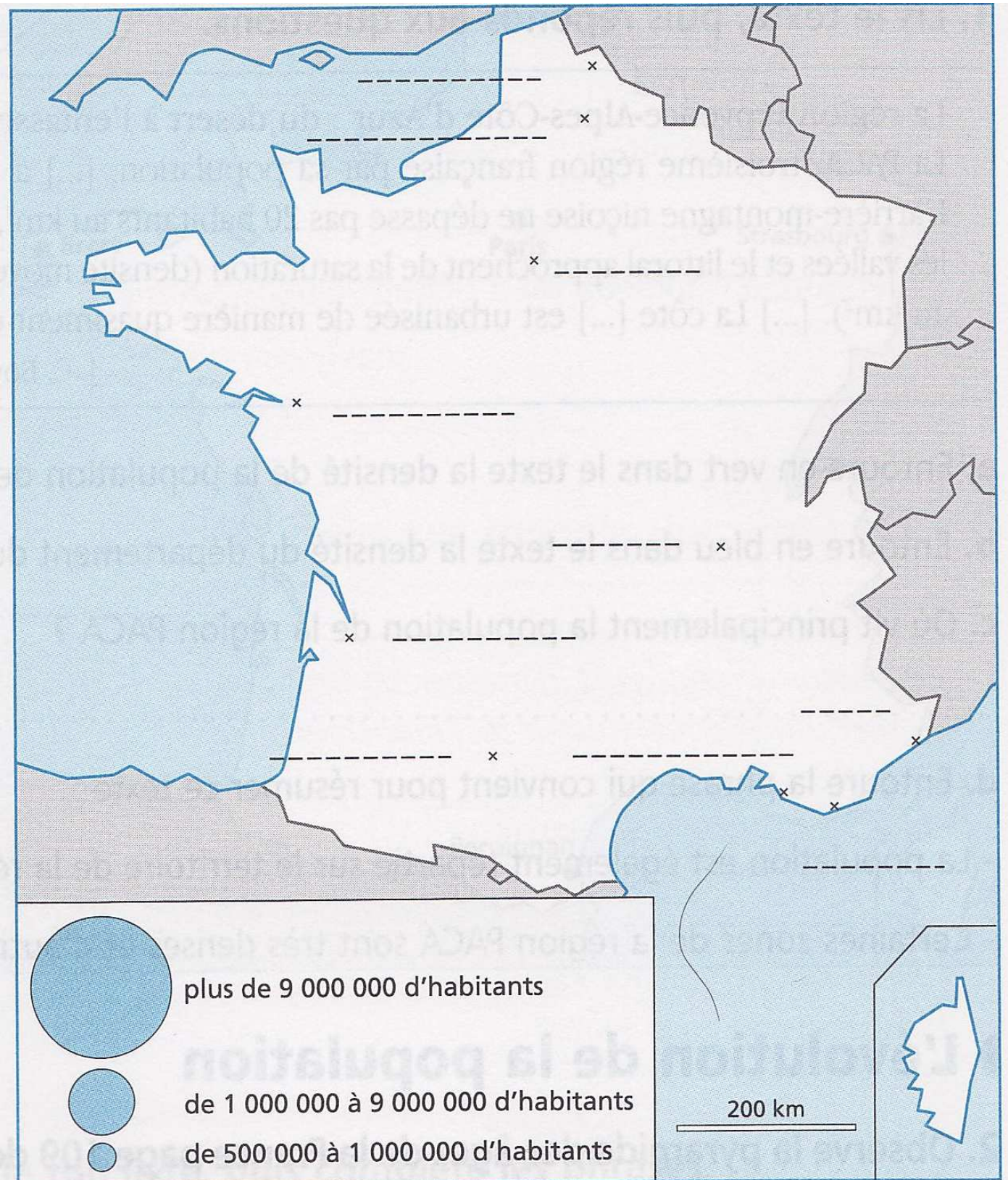




# Les grandes villes de France

Géo ....

Carte



Ecris le nom des villes

Place sur la carte les cercles correspondant au nombre d'habitant de chaque ville.



# Les grandes villes de France

Géo ...

## Je retiens

La ville est le lieu d'habitation de près de 8 français sur 10.

Cependant, il existe des différences régionales : la France à l'est d'une ligne Le Havre-Marseille est la plus urbanisée.

Les villes sont organisées en réseau : les grandes villes exercent leurs influences sur les villes moyennes qui à leur tour exercent leurs influences sur des villes plus petites... Paris a la plus grande zone d'influence.





# Les grandes villes de France

Géo ...

L'organisation d'une ville



▲ Doc. 1 : Une vue aérienne de la ville de Besançon.

Repère le centre ancien de la ville de Besançon.

Par quoi est-il bordé ? .....

Par quoi est-il dominé ? .....



▲ Doc. 2 : Le profil d'une ville.

Retrouve les éléments du schéma sur la photo de Besançon.





# Les grandes villes de France

Géo ...

## Je retiens

En France, chaque ville est composée d'un centre, de quartiers différents et d'une banlieue. Le centre est la partie la plus ancienne de la ville. La banlieue est formée de pavillons, de grands ensembles et de lotissements. Elle regroupe aussi les zones industrielles et les surfaces commerciales. Les paysages urbains sont variés et évoluent en permanence.

