


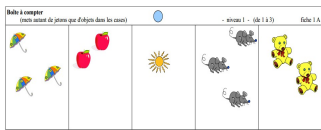




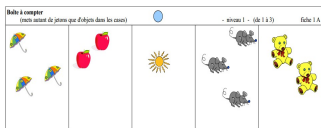
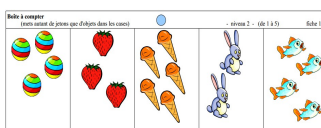

### J'ai participé à l'atelier boîtes à compter (1) et je suis capable de

|                                                                                                                                                            |                                                                                                             |                                                                                    |                                                                                     |   |   |   |   |                                                                                                                |   |   |   |    |    |    |                                                                                                                   |    |    |    |    |    |
|------------------------------------------------------------------------------------------------------------------------------------------------------------|-------------------------------------------------------------------------------------------------------------|------------------------------------------------------------------------------------|-------------------------------------------------------------------------------------|---|---|---|---|----------------------------------------------------------------------------------------------------------------|---|---|---|----|----|----|-------------------------------------------------------------------------------------------------------------------|----|----|----|----|----|
| <p><b>Découvrir le monde:</b><br/>approcher les quantités et les nombres</p> <p>Dénombrer une quantité en utilisant la suite orale des nombres connus.</p> |                            |  |  |   |   |   |   |                                                                                                                |   |   |   |    |    |    |                                                                                                                   |    |    |    |    |    |
|                                                                                                                                                            | Mettre autant de jetons que d'objets dans les cases (de 1 à 3)                                              | Mettre autant de jetons que d'objets dans les cases (de 1 à 5)                     | Mettre autant de jetons que d'objets dans les cases (de 1 à 9)                      |   |   |   |   |                                                                                                                |   |   |   |    |    |    |                                                                                                                   |    |    |    |    |    |
|                                                                                                                                                            | <table border="1"> <tr><td>1</td><td>2</td><td>3</td></tr> <tr><td>4</td><td>5</td><td>6</td></tr> </table> | 1                                                                                  | 2                                                                                   | 3 | 4 | 5 | 6 | <table border="1"> <tr><td>7</td><td>8</td><td>9</td></tr> <tr><td>10</td><td>11</td><td>12</td></tr> </table> | 7 | 8 | 9 | 10 | 11 | 12 | <table border="1"> <tr><td>13</td><td>14</td><td>15</td></tr> <tr><td>16</td><td>17</td><td>18</td></tr> </table> | 13 | 14 | 15 | 16 | 17 |
| 1                                                                                                                                                          | 2                                                                                                           | 3                                                                                  |                                                                                     |   |   |   |   |                                                                                                                |   |   |   |    |    |    |                                                                                                                   |    |    |    |    |    |
| 4                                                                                                                                                          | 5                                                                                                           | 6                                                                                  |                                                                                     |   |   |   |   |                                                                                                                |   |   |   |    |    |    |                                                                                                                   |    |    |    |    |    |
| 7                                                                                                                                                          | 8                                                                                                           | 9                                                                                  |                                                                                     |   |   |   |   |                                                                                                                |   |   |   |    |    |    |                                                                                                                   |    |    |    |    |    |
| 10                                                                                                                                                         | 11                                                                                                          | 12                                                                                 |                                                                                     |   |   |   |   |                                                                                                                |   |   |   |    |    |    |                                                                                                                   |    |    |    |    |    |
| 13                                                                                                                                                         | 14                                                                                                          | 15                                                                                 |                                                                                     |   |   |   |   |                                                                                                                |   |   |   |    |    |    |                                                                                                                   |    |    |    |    |    |
| 16                                                                                                                                                         | 17                                                                                                          | 18                                                                                 |                                                                                     |   |   |   |   |                                                                                                                |   |   |   |    |    |    |                                                                                                                   |    |    |    |    |    |


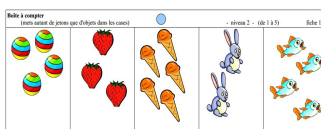

### J'ai participé à l'atelier boîtes à compter (1) et je suis capable de

|                                                                                                                                                            |                                                                                                             |                                                                                    |                                                                                     |   |   |   |   |                                                                                                                |   |   |   |    |    |    |                                                                                                                   |    |    |    |    |    |
|------------------------------------------------------------------------------------------------------------------------------------------------------------|-------------------------------------------------------------------------------------------------------------|------------------------------------------------------------------------------------|-------------------------------------------------------------------------------------|---|---|---|---|----------------------------------------------------------------------------------------------------------------|---|---|---|----|----|----|-------------------------------------------------------------------------------------------------------------------|----|----|----|----|----|
| <p><b>Découvrir le monde:</b><br/>approcher les quantités et les nombres</p> <p>Dénombrer une quantité en utilisant la suite orale des nombres connus.</p> |                            |  |  |   |   |   |   |                                                                                                                |   |   |   |    |    |    |                                                                                                                   |    |    |    |    |    |
|                                                                                                                                                            | Mettre autant de jetons que d'objets dans les cases (de 1 à 3)                                              | Mettre autant de jetons que d'objets dans les cases (de 1 à 5)                     | Mettre autant de jetons que d'objets dans les cases (de 1 à 9)                      |   |   |   |   |                                                                                                                |   |   |   |    |    |    |                                                                                                                   |    |    |    |    |    |
|                                                                                                                                                            | <table border="1"> <tr><td>1</td><td>2</td><td>3</td></tr> <tr><td>4</td><td>5</td><td>6</td></tr> </table> | 1                                                                                  | 2                                                                                   | 3 | 4 | 5 | 6 | <table border="1"> <tr><td>7</td><td>8</td><td>9</td></tr> <tr><td>10</td><td>11</td><td>12</td></tr> </table> | 7 | 8 | 9 | 10 | 11 | 12 | <table border="1"> <tr><td>13</td><td>14</td><td>15</td></tr> <tr><td>16</td><td>17</td><td>18</td></tr> </table> | 13 | 14 | 15 | 16 | 17 |
| 1                                                                                                                                                          | 2                                                                                                           | 3                                                                                  |                                                                                     |   |   |   |   |                                                                                                                |   |   |   |    |    |    |                                                                                                                   |    |    |    |    |    |
| 4                                                                                                                                                          | 5                                                                                                           | 6                                                                                  |                                                                                     |   |   |   |   |                                                                                                                |   |   |   |    |    |    |                                                                                                                   |    |    |    |    |    |
| 7                                                                                                                                                          | 8                                                                                                           | 9                                                                                  |                                                                                     |   |   |   |   |                                                                                                                |   |   |   |    |    |    |                                                                                                                   |    |    |    |    |    |
| 10                                                                                                                                                         | 11                                                                                                          | 12                                                                                 |                                                                                     |   |   |   |   |                                                                                                                |   |   |   |    |    |    |                                                                                                                   |    |    |    |    |    |
| 13                                                                                                                                                         | 14                                                                                                          | 15                                                                                 |                                                                                     |   |   |   |   |                                                                                                                |   |   |   |    |    |    |                                                                                                                   |    |    |    |    |    |
| 16                                                                                                                                                         | 17                                                                                                          | 18                                                                                 |                                                                                     |   |   |   |   |                                                                                                                |   |   |   |    |    |    |                                                                                                                   |    |    |    |    |    |

### J'ai participé à l'atelier boîtes à compter (1) et je suis capable de

|                                                                                                                                                            |                                                                                                             |                                                                                      |                                                                                       |   |   |   |   |                                                                                                                |   |   |   |    |    |    |                                                                                                                   |    |    |    |    |    |
|------------------------------------------------------------------------------------------------------------------------------------------------------------|-------------------------------------------------------------------------------------------------------------|--------------------------------------------------------------------------------------|---------------------------------------------------------------------------------------|---|---|---|---|----------------------------------------------------------------------------------------------------------------|---|---|---|----|----|----|-------------------------------------------------------------------------------------------------------------------|----|----|----|----|----|
| <p><b>Découvrir le monde:</b><br/>approcher les quantités et les nombres</p> <p>Dénombrer une quantité en utilisant la suite orale des nombres connus.</p> |                          |  |  |   |   |   |   |                                                                                                                |   |   |   |    |    |    |                                                                                                                   |    |    |    |    |    |
|                                                                                                                                                            | Mettre autant de jetons que d'objets dans les cases (de 1 à 3)                                              | Mettre autant de jetons que d'objets dans les cases (de 1 à 5)                       | Mettre autant de jetons que d'objets dans les cases (de 1 à 9)                        |   |   |   |   |                                                                                                                |   |   |   |    |    |    |                                                                                                                   |    |    |    |    |    |
|                                                                                                                                                            | <table border="1"> <tr><td>1</td><td>2</td><td>3</td></tr> <tr><td>4</td><td>5</td><td>6</td></tr> </table> | 1                                                                                    | 2                                                                                     | 3 | 4 | 5 | 6 | <table border="1"> <tr><td>7</td><td>8</td><td>9</td></tr> <tr><td>10</td><td>11</td><td>12</td></tr> </table> | 7 | 8 | 9 | 10 | 11 | 12 | <table border="1"> <tr><td>13</td><td>14</td><td>15</td></tr> <tr><td>16</td><td>17</td><td>18</td></tr> </table> | 13 | 14 | 15 | 16 | 17 |
| 1                                                                                                                                                          | 2                                                                                                           | 3                                                                                    |                                                                                       |   |   |   |   |                                                                                                                |   |   |   |    |    |    |                                                                                                                   |    |    |    |    |    |
| 4                                                                                                                                                          | 5                                                                                                           | 6                                                                                    |                                                                                       |   |   |   |   |                                                                                                                |   |   |   |    |    |    |                                                                                                                   |    |    |    |    |    |
| 7                                                                                                                                                          | 8                                                                                                           | 9                                                                                    |                                                                                       |   |   |   |   |                                                                                                                |   |   |   |    |    |    |                                                                                                                   |    |    |    |    |    |
| 10                                                                                                                                                         | 11                                                                                                          | 12                                                                                   |                                                                                       |   |   |   |   |                                                                                                                |   |   |   |    |    |    |                                                                                                                   |    |    |    |    |    |
| 13                                                                                                                                                         | 14                                                                                                          | 15                                                                                   |                                                                                       |   |   |   |   |                                                                                                                |   |   |   |    |    |    |                                                                                                                   |    |    |    |    |    |
| 16                                                                                                                                                         | 17                                                                                                          | 18                                                                                   |                                                                                       |   |   |   |   |                                                                                                                |   |   |   |    |    |    |                                                                                                                   |    |    |    |    |    |

### J'ai participé à l'atelier boîtes à compter (1) et je suis capable de

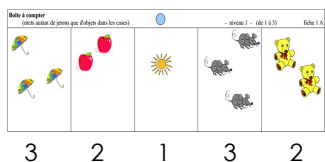
|                                                                                                                                                            |                                                                                                             |                                                                                      |                                                                                       |   |   |   |   |                                                                                                                |   |   |   |    |    |    |                                                                                                                   |    |    |    |    |    |
|------------------------------------------------------------------------------------------------------------------------------------------------------------|-------------------------------------------------------------------------------------------------------------|--------------------------------------------------------------------------------------|---------------------------------------------------------------------------------------|---|---|---|---|----------------------------------------------------------------------------------------------------------------|---|---|---|----|----|----|-------------------------------------------------------------------------------------------------------------------|----|----|----|----|----|
| <p><b>Découvrir le monde:</b><br/>approcher les quantités et les nombres</p> <p>Dénombrer une quantité en utilisant la suite orale des nombres connus.</p> |                          |  |  |   |   |   |   |                                                                                                                |   |   |   |    |    |    |                                                                                                                   |    |    |    |    |    |
|                                                                                                                                                            | Mettre autant de jetons que d'objets dans les cases (de 1 à 3)                                              | Mettre autant de jetons que d'objets dans les cases (de 1 à 5)                       | Mettre autant de jetons que d'objets dans les cases (de 1 à 9)                        |   |   |   |   |                                                                                                                |   |   |   |    |    |    |                                                                                                                   |    |    |    |    |    |
|                                                                                                                                                            | <table border="1"> <tr><td>1</td><td>2</td><td>3</td></tr> <tr><td>4</td><td>5</td><td>6</td></tr> </table> | 1                                                                                    | 2                                                                                     | 3 | 4 | 5 | 6 | <table border="1"> <tr><td>7</td><td>8</td><td>9</td></tr> <tr><td>10</td><td>11</td><td>12</td></tr> </table> | 7 | 8 | 9 | 10 | 11 | 12 | <table border="1"> <tr><td>13</td><td>14</td><td>15</td></tr> <tr><td>16</td><td>17</td><td>18</td></tr> </table> | 13 | 14 | 15 | 16 | 17 |
| 1                                                                                                                                                          | 2                                                                                                           | 3                                                                                    |                                                                                       |   |   |   |   |                                                                                                                |   |   |   |    |    |    |                                                                                                                   |    |    |    |    |    |
| 4                                                                                                                                                          | 5                                                                                                           | 6                                                                                    |                                                                                       |   |   |   |   |                                                                                                                |   |   |   |    |    |    |                                                                                                                   |    |    |    |    |    |
| 7                                                                                                                                                          | 8                                                                                                           | 9                                                                                    |                                                                                       |   |   |   |   |                                                                                                                |   |   |   |    |    |    |                                                                                                                   |    |    |    |    |    |
| 10                                                                                                                                                         | 11                                                                                                          | 12                                                                                   |                                                                                       |   |   |   |   |                                                                                                                |   |   |   |    |    |    |                                                                                                                   |    |    |    |    |    |
| 13                                                                                                                                                         | 14                                                                                                          | 15                                                                                   |                                                                                       |   |   |   |   |                                                                                                                |   |   |   |    |    |    |                                                                                                                   |    |    |    |    |    |
| 16                                                                                                                                                         | 17                                                                                                          | 18                                                                                   |                                                                                       |   |   |   |   |                                                                                                                |   |   |   |    |    |    |                                                                                                                   |    |    |    |    |    |

## J'ai participé à l'atelier boîtes à compter (2) et je suis capable de

### Découvrir le monde:

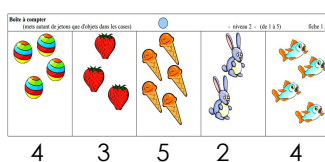
approcher les quantités et les nombres

-Dénombrer une quantité en utilisant la suite orale des nombres connus.  
-Associer le nom de nombres connus avec leur écriture chiffrée.




Mettre le chiffre correspondant au nombre d'objets dans les cases (de 1 à 3)

|   |   |   |
|---|---|---|
| 1 | 2 | 3 |
| 4 | 5 | 6 |



Mettre le chiffre correspondant au nombre d'objets dans les cases (de 1 à 5)

|    |    |    |
|----|----|----|
| 7  | 8  | 9  |
| 10 | 11 | 12 |



Mettre le chiffre correspondant au nombre d'objets dans les cases (de 1 à 9)

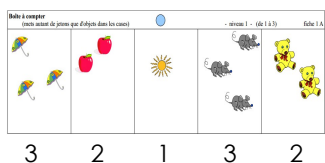
|    |    |    |
|----|----|----|
| 13 | 14 | 15 |
| 16 | 17 | 18 |

## J'ai participé à l'atelier boîtes à compter (2) et je suis capable de

### Découvrir le monde:

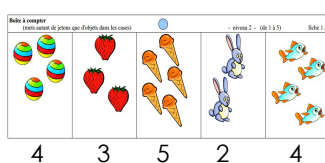
approcher les quantités et les nombres

-Dénombrer une quantité en utilisant la suite orale des nombres connus.  
-Associer le nom de nombres connus avec leur écriture chiffrée.




Mettre le chiffre correspondant au nombre d'objets dans les cases (de 1 à 3)

|   |   |   |
|---|---|---|
| 1 | 2 | 3 |
| 4 | 5 | 6 |



Mettre le chiffre correspondant au nombre d'objets dans les cases (de 1 à 5)

|    |    |    |
|----|----|----|
| 7  | 8  | 9  |
| 10 | 11 | 12 |



Mettre le chiffre correspondant au nombre d'objets dans les cases (de 1 à 9)

|    |    |    |
|----|----|----|
| 13 | 14 | 15 |
| 16 | 17 | 18 |

## J'ai participé à l'atelier boîtes à compter (2) et je suis capable de

### Découvrir le monde:

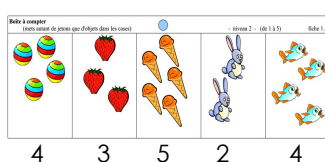
approcher les quantités et les nombres

-Dénombrer une quantité en utilisant la suite orale des nombres connus.  
-Associer le nom de nombres connus avec leur écriture chiffrée.




Mettre le chiffre correspondant au nombre d'objets dans les cases (de 1 à 3)

|   |   |   |
|---|---|---|
| 1 | 2 | 3 |
| 4 | 5 | 6 |



Mettre le chiffre correspondant au nombre d'objets dans les cases (de 1 à 5)

|    |    |    |
|----|----|----|
| 7  | 8  | 9  |
| 10 | 11 | 12 |



Mettre le chiffre correspondant au nombre d'objets dans les cases (de 1 à 9)

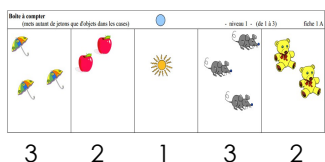
|    |    |    |
|----|----|----|
| 13 | 14 | 15 |
| 16 | 17 | 18 |

## J'ai participé à l'atelier boîtes à compter (2) et je suis capable de

### Découvrir le monde:

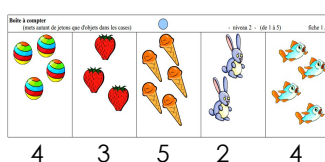
approcher les quantités et les nombres

-Dénombrer une quantité en utilisant la suite orale des nombres connus.  
-Associer le nom de nombres connus avec leur écriture chiffrée.




Mettre le chiffre correspondant au nombre d'objets dans les cases (de 1 à 3)

|   |   |   |
|---|---|---|
| 1 | 2 | 3 |
| 4 | 5 | 6 |



Mettre le chiffre correspondant au nombre d'objets dans les cases (de 1 à 5)

|    |    |    |
|----|----|----|
| 7  | 8  | 9  |
| 10 | 11 | 12 |



Mettre le chiffre correspondant au nombre d'objets dans les cases (de 1 à 9)

|    |    |    |
|----|----|----|
| 13 | 14 | 15 |
| 16 | 17 | 18 |