

1 Résolution de problèmes

1

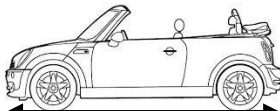
Angelina a 37 ans. La sœur Jennifer en a 26. Calcule leur différence d'âge.

Calcul :

Phrase réponse :

2

Quelle est la différence de longueur entre les deux voitures ?

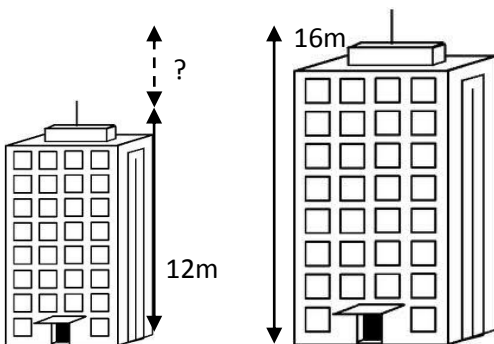


Calcul :

Phrase réponse :

3

Quelle est la différence de hauteur entre ces deux immeubles ?

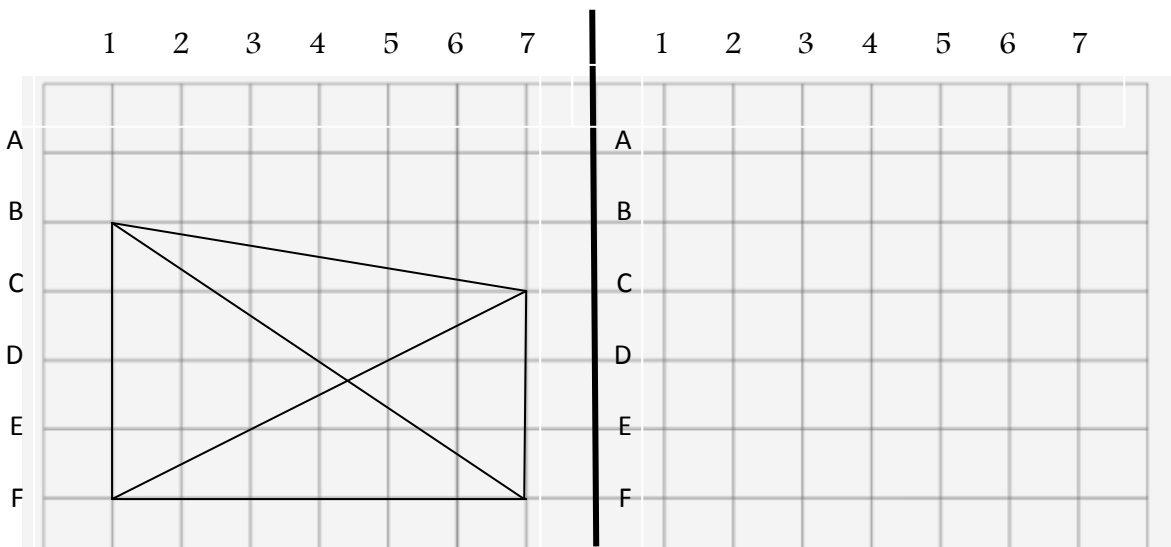


Calcul :

Phrase réponse :

2 Reproduction sur quadrillage

A) Reproduis la figure en te servant du codage du quadrillage :



B) Place un point :

- rouge en (B ; 2)


- vert en (B ; 6)

- bleu en (F ; 2)

Relie ces points.

Obtiens-tu un triangle rectangle ?

Oui Non



3 Géométrie : jeu du portrait

Qui suis-je ? Ecris la lettre qui correspond :

Je suis un triangle non rectangle : _____

Je n'ai pas de sommet : _____

J'ai un côté de plus que le triangle : _____

J'ai 3 sommets : _____

Tous mes côtés sont égaux : _____

