



# decembre

# 2020

lundi

mardi

mercredi

jeudi

vendredi

samedi

dimanche

1

7

14




21



28

|    |   |  |  |  |  |  |
|----|---|--|--|--|--|--|
|    | 1 |  |  |  |  |  |
| 7  |   |  |  |  |  |  |
| 14 |   |  |  |  |  |  |
| 21 |   |  |  |  |  |  |
| 28 |   |  |  |  |  |  |









## Activités sur le calendrier :








1.  Complète la grille du mois de décembre.
2.  Colle les événements importants du mois de décembre.
3.  Réponds aux questions suivantes :

|  |   |
|--|---|
| a) <b>Combien y a-t-il de jours au mois de décembre ?</b>  | Il y a _____ jours en décembre.           |
|  b) <b>Combien de jours es-tu resté(e) à ta maison ?</b> | Je suis resté(e) _____ jours à ma maison. |
|  c) <b>Combien de jours es-tu allé(e) en classe ?</b>    | Je suis allé(e) _____ jours en classe.    |
| d) <b>Combien y a-t-il de lundis dans le mois ?</b>  | Il y a _____ lundis dans le mois.         |

4.  Regarde le calendrier en colonnes et  complète le tableau de la météo suivant :

|   |  |  |   |  |  |  |  |
|---|--|--|---|--|--|--|--|
|  <b>Compte le nombre de jours</b> |  |  |  |  |  |  |  |
|   | soleil   | éclaircies   | nuages  | pluie  | vent   | neige  | gelée  |
|   | _____  | _____  | _____   | _____  | _____  | _____  | _____  |

|  |  |  |  |   |
|--|--|--|--|---|
|  | 21  | 19  | 25  | 6  |
|  | C'est l'hiver  | Vacances   | C'est Noël   | Saint-Nicolas   |