








Villes	Distance de Paris en km	
Londres	349	
Pretoria	8 688	
Dakar	4 206	
Le Caire	3 211	
Pékin	8 229	
Tokyo	9 728	
Canberra	16 942	

..... est la ville la plus proche de Paris.



..... est la ville la plus éloignée de Paris.

Nous classons ces villes de la plus proche à la plus éloignée de Paris :

.....

.....

.....

.....








.....

.....

.....

.....



Villes	Distance de Paris en km	
Moscou	2 486	
Berlin	879	
Wellington	19 000	
Papeete	15 719	
Rio de Janeiro	9 160	
New York	5 836	
Tunis	1 479	

..... est la ville la plus proche de Paris.



..... est la ville la plus éloignée de Paris.

Nous classons ces villes de la plus proche à la plus éloignée de Paris :

.....

.....

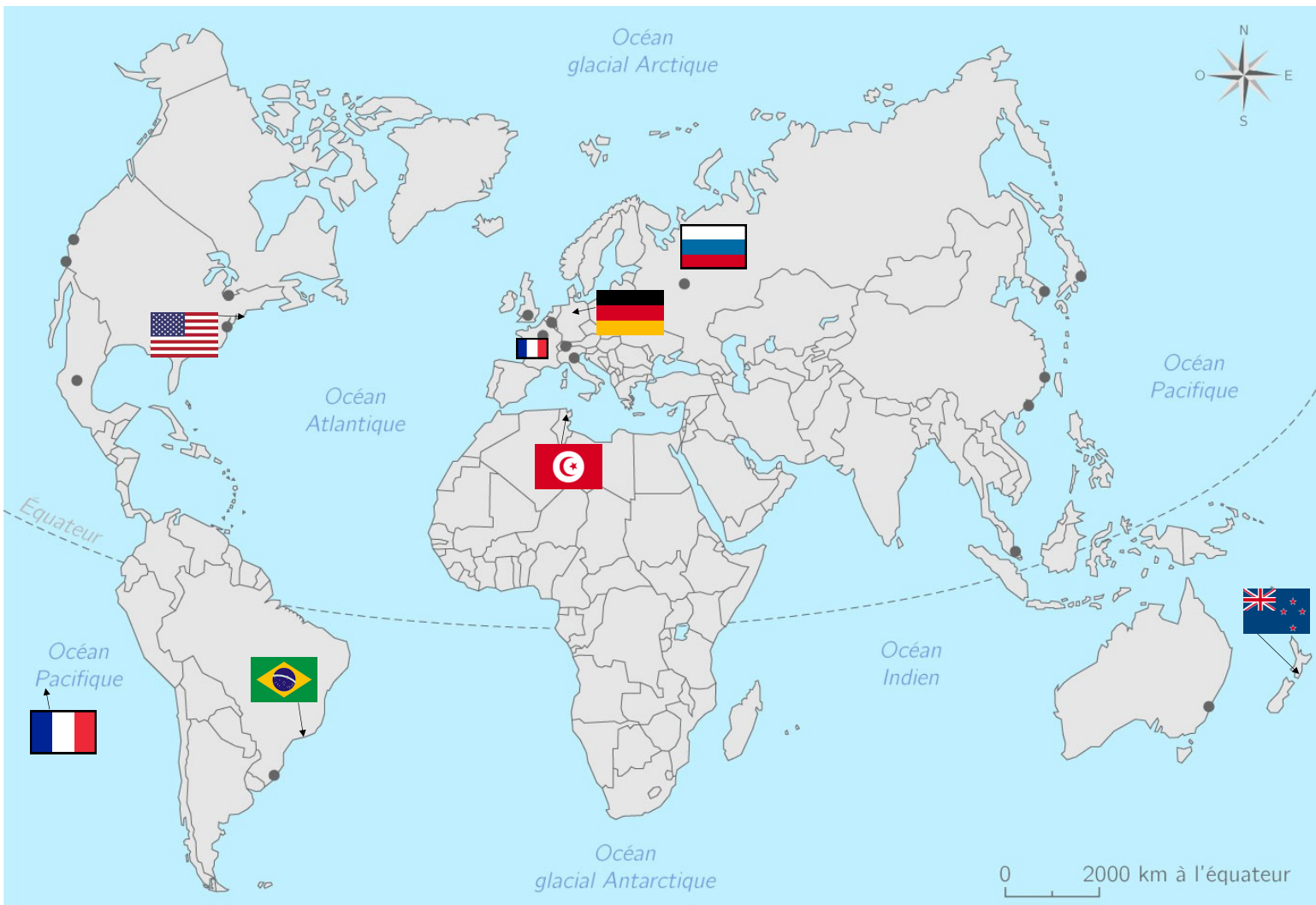
.....








.....

.....

.....

.....



Villes	Distance de Paris en km	
Lima	10 263	
Rabat	1 812	
Madrid	1 049	
Bamako	4 138	
Singapour	10 759	
Jakarta	11 597	
Bruxelles	268	

..... est la ville la plus proche de Paris.



..... est la ville la plus éloignée de Paris.

Nous classons ces villes de la plus proche à la plus éloignée de Paris :

.....

.....

.....

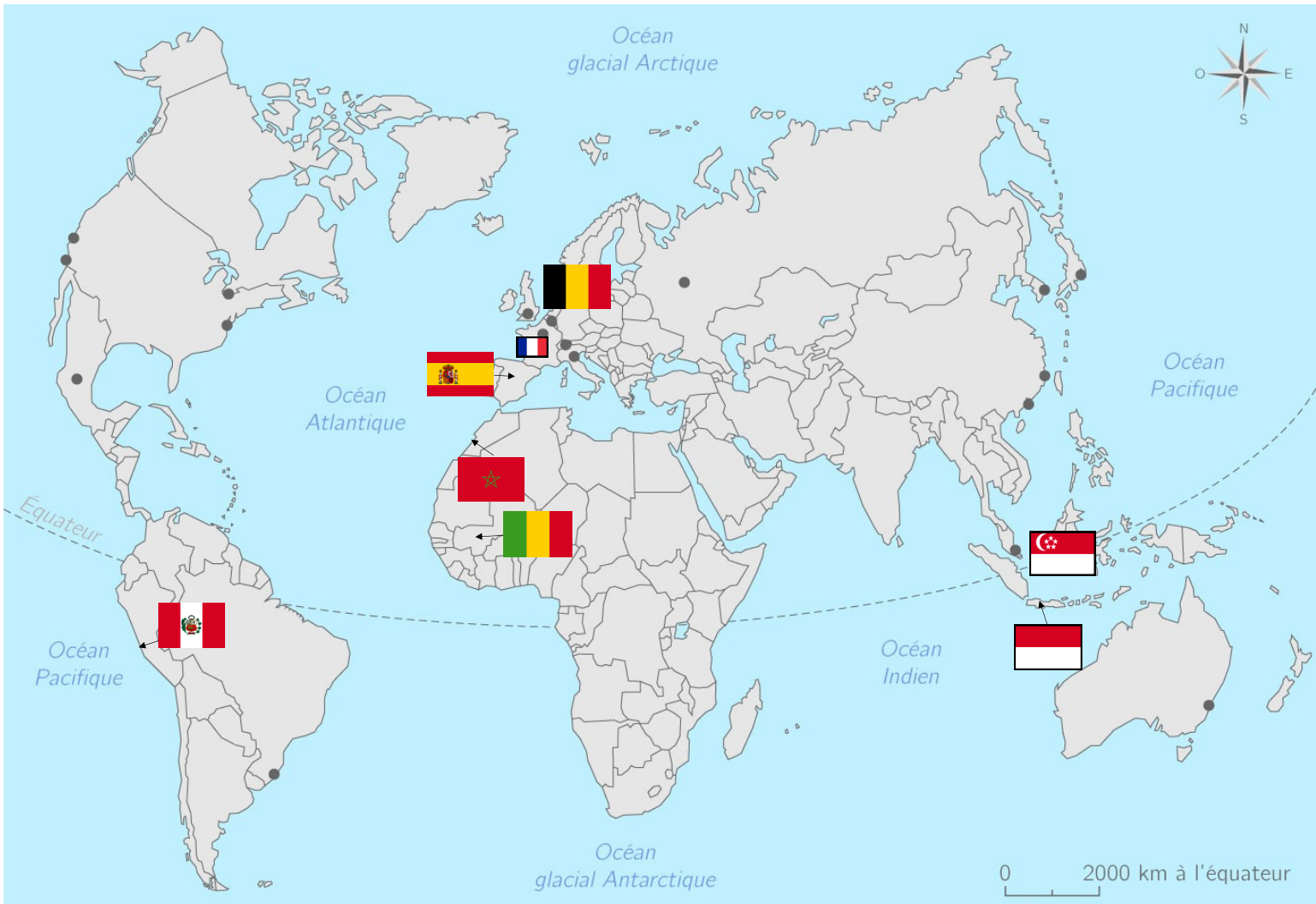
.....








.....

.....

.....

.....



Villes	Distance de Paris en km	
Port-Vila	16 354	
Montevideo	10 967	
Luxembourg	289	
Kigali	6 253	
Santiago	11 658	
Nairobi	6 487	
Athènes	2 096	

..... est la ville la plus proche de Paris.



..... est la ville la plus éloignée de Paris.

Nous classons ces villes de la plus proche à la plus éloignée de Paris :

.....

.....

.....

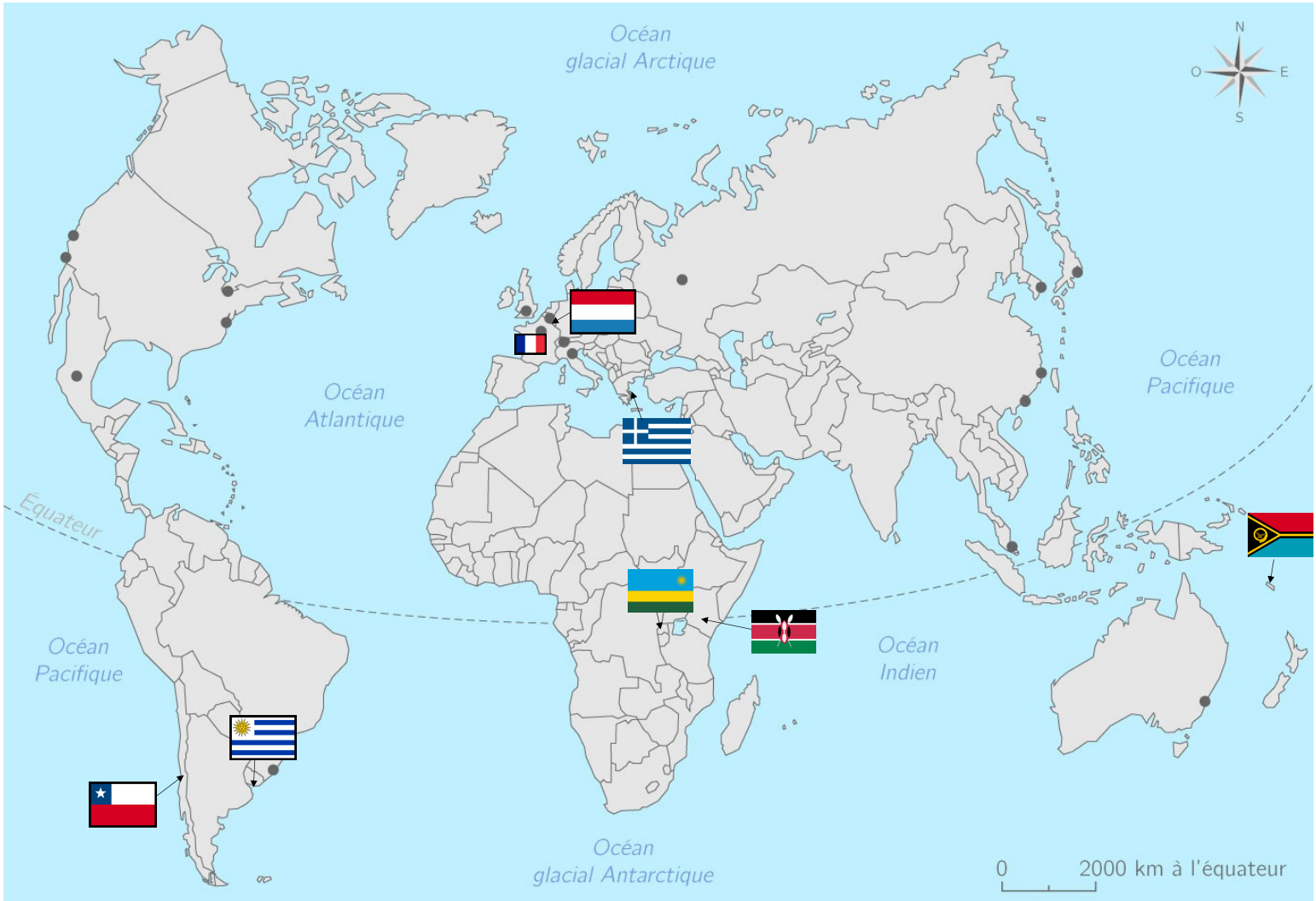
.....

.....

.....

.....

.....



CM1

Exercice 1 : Complète avec < , > .

7 009	6 983	8 574	8 564
4 563	4 567	8 562	9 000
1 034	954	14 650	9 670

Exercice 2 : Range ces nombres dans l'ordre croissant.

1 111 / 1 001 / 1 100 / 1 011 / 1 010 / 1 101

.....

Exercice 3 : Range ces nombres dans l'ordre décroissant.

9 009 / 9 999 / 9 099 / 9 909 / 9 090 / 9 900

.....

CM1

Exercice 1 : Complète avec < , > .

7 009	6 983	8 574	8 564
4 563	4 567	8 562	9 000
1 034	954	14 650	9 670

Exercice 2 : Range ces nombres dans l'ordre croissant.

1 111 / 1 001 / 1 100 / 1 011 / 1 010 / 1 101

.....

Exercice 3 : Range ces nombres dans l'ordre décroissant.

9 009 / 9 999 / 9 099 / 9 909 / 9 090 / 9 900

.....