

Les climats en Europe

1- Observe la carte du document 2 et complète les phrases avec les points cardinaux suivants :

Nord - sud - est - ouest







- a- Le climat océanique est à l' _____ de l'Europe.
 b- Le climat continental est au _____ et à l' _____ de l'Europe.
 c- Le climat méditerranéen est au _____ de l'Europe.

2- Complète les phrases en t'aidant de la feuille documents. Pour cela, utilise les mots :

Chaud - froid - frais - doux - humide - sec

- 1- Au nord de l'Europe, le climat est polaire : il fait _____ toute l'année.
 2- Dans le sud de l'Europe, le climat est méditerranéen : les hivers sont _____ ; en été, il fait _____ et _____.
 3- L'Ouest de l'Europe possède un climat océanique : le temps est _____ et souvent _____.
 4- Au centre et à l'est de l'Europe, le climat continental est marqué par des étés _____ et des hivers _____ pendant lesquels il neige abondamment.
 5- Les régions de montagnes possèdent un climat particulier : plus on se trouve en altitude, plus il fait _____.

3- Mets la lettre correspondante devant chaque nom de végétation naturelle. Tu peux t'aider de la feuille de documents.



- Forêt de conifères : _____

- Végétation méditerranéenne : _____

- Forêt de feuillus : _____

- Toundra : _____

- Lande océanique : _____

- steppe : _____