


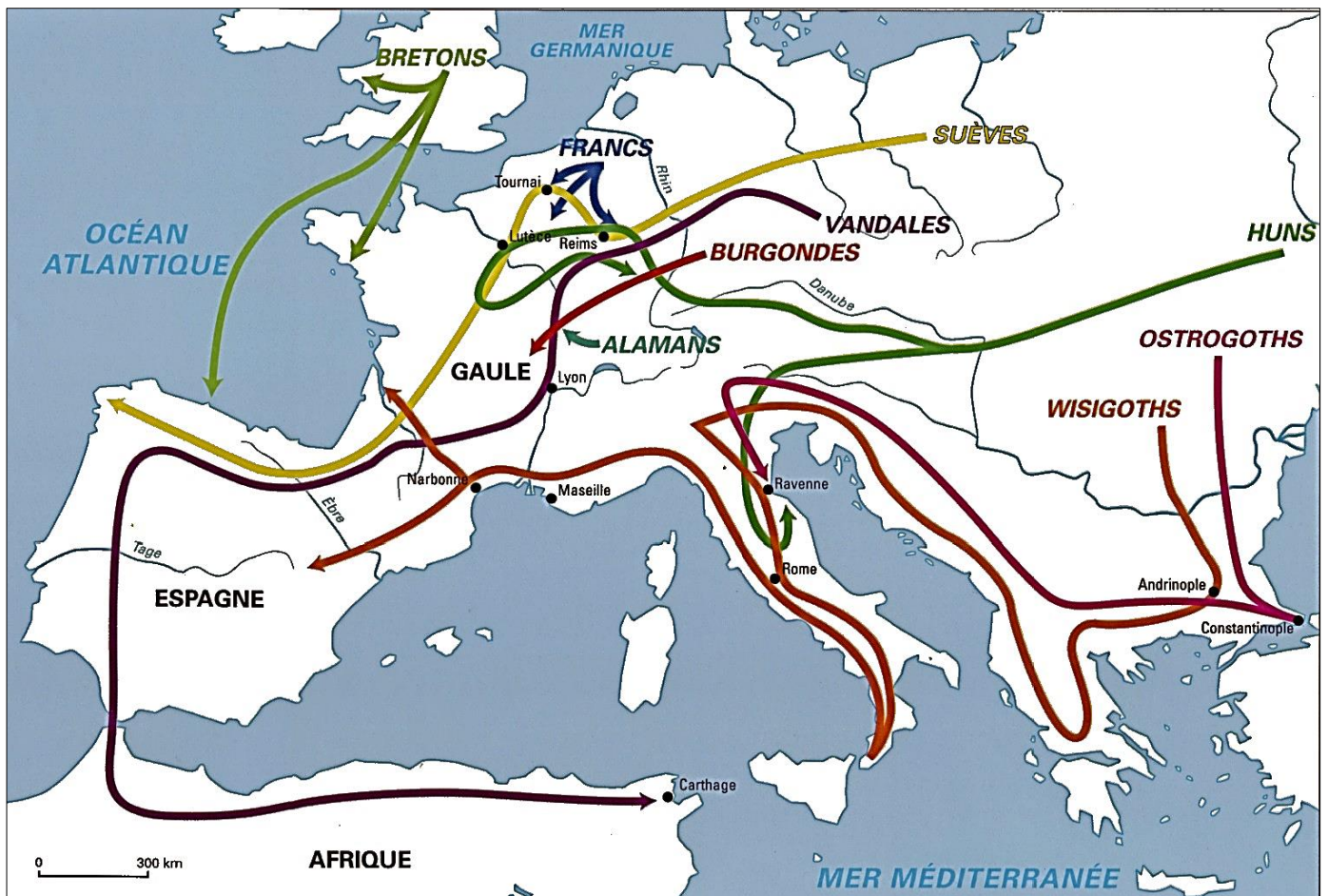
# Histoire :

## Les invasions barbares

### I) Les barbares aux portes de l'empire



Document A : chronologie des invasions Barbares



document B : carte des invasions Barbares

**1. Quel peuple est le premier à attaquer l'Empire Romain ?**

|  |  |  |  |  |  |  |  |  |  |  |  |  |  |  |  |  |  |  |  |  |  |  |
|--|--|--|--|--|--|--|--|--|--|--|--|--|--|--|--|--|--|--|--|--|--|--|
|  |  |  |  |  |  |  |  |  |  |  |  |  |  |  |  |  |  |  |  |  |  |  |
|  |  |  |  |  |  |  |  |  |  |  |  |  |  |  |  |  |  |  |  |  |  |  |
|  |  |  |  |  |  |  |  |  |  |  |  |  |  |  |  |  |  |  |  |  |  |  |
|  |  |  |  |  |  |  |  |  |  |  |  |  |  |  |  |  |  |  |  |  |  |  |
|  |  |  |  |  |  |  |  |  |  |  |  |  |  |  |  |  |  |  |  |  |  |  |

**2. Qui fut le premier empereur romain ?**

|  |  |  |  |  |  |  |  |  |  |  |  |  |  |  |  |  |  |  |  |  |  |  |
|--|--|--|--|--|--|--|--|--|--|--|--|--|--|--|--|--|--|--|--|--|--|--|
|  |  |  |  |  |  |  |  |  |  |  |  |  |  |  |  |  |  |  |  |  |  |  |
|  |  |  |  |  |  |  |  |  |  |  |  |  |  |  |  |  |  |  |  |  |  |  |
|  |  |  |  |  |  |  |  |  |  |  |  |  |  |  |  |  |  |  |  |  |  |  |
|  |  |  |  |  |  |  |  |  |  |  |  |  |  |  |  |  |  |  |  |  |  |  |
|  |  |  |  |  |  |  |  |  |  |  |  |  |  |  |  |  |  |  |  |  |  |  |

**3. Trouve 2 peuples barbares qui ont laissé leurs noms à des pays européens**

|  |  |  |  |  |  |  |  |  |  |  |  |  |  |  |  |  |  |  |  |  |  |  |
|--|--|--|--|--|--|--|--|--|--|--|--|--|--|--|--|--|--|--|--|--|--|--|
|  |  |  |  |  |  |  |  |  |  |  |  |  |  |  |  |  |  |  |  |  |  |  |
|  |  |  |  |  |  |  |  |  |  |  |  |  |  |  |  |  |  |  |  |  |  |  |
|  |  |  |  |  |  |  |  |  |  |  |  |  |  |  |  |  |  |  |  |  |  |  |
|  |  |  |  |  |  |  |  |  |  |  |  |  |  |  |  |  |  |  |  |  |  |  |
|  |  |  |  |  |  |  |  |  |  |  |  |  |  |  |  |  |  |  |  |  |  |  |

**4. Combien de temps a duré l'Empire Romain d'Occident ?**

|  |  |  |  |  |  |  |  |  |  |  |  |  |  |  |  |  |  |  |  |  |  |  |
|--|--|--|--|--|--|--|--|--|--|--|--|--|--|--|--|--|--|--|--|--|--|--|
|  |  |  |  |  |  |  |  |  |  |  |  |  |  |  |  |  |  |  |  |  |  |  |
|  |  |  |  |  |  |  |  |  |  |  |  |  |  |  |  |  |  |  |  |  |  |  |
|  |  |  |  |  |  |  |  |  |  |  |  |  |  |  |  |  |  |  |  |  |  |  |
|  |  |  |  |  |  |  |  |  |  |  |  |  |  |  |  |  |  |  |  |  |  |  |
|  |  |  |  |  |  |  |  |  |  |  |  |  |  |  |  |  |  |  |  |  |  |  |

**5. Quel peuple s'est installé au nord de la Gaule ?**

|  |  |  |  |  |  |  |  |  |  |  |  |  |  |  |  |  |  |  |  |  |  |  |
|--|--|--|--|--|--|--|--|--|--|--|--|--|--|--|--|--|--|--|--|--|--|--|
|  |  |  |  |  |  |  |  |  |  |  |  |  |  |  |  |  |  |  |  |  |  |  |
|  |  |  |  |  |  |  |  |  |  |  |  |  |  |  |  |  |  |  |  |  |  |  |
|  |  |  |  |  |  |  |  |  |  |  |  |  |  |  |  |  |  |  |  |  |  |  |
|  |  |  |  |  |  |  |  |  |  |  |  |  |  |  |  |  |  |  |  |  |  |  |
|  |  |  |  |  |  |  |  |  |  |  |  |  |  |  |  |  |  |  |  |  |  |  |

## II) Qui sont les barbares ?

### Les Huns

La race des Huns dépasse toutes les bornes de la sauvagerie. Comme on taillade profondément au fer les joues des enfants aussitôt après leur naissance pour que la croissance de la barbe soit arrêtée le moment venu par les cicatrices, ils grandissent sans barbe, sans rien de gracieux. Ils sont prodigieusement laids et, à les voir, on dirait des bêtes à deux pattes. Leur train de vie est rude: ils ne se nourrissent pas d'aliments cuits au feu, ni assaisonnés, mais de racines de plantes sauvages et de chair demi crue qu'ils échauffent, lorsqu'ils sont à cheval, entre leurs cuisses.

Aucun édifice ne les abrite, car ils ne se considèrent pas en sûreté quand ils demeurent sous des toits. Les Huns boivent à cheval, mangent à cheval et dorment à cheval en se baissant sur le cou de l'animal. Nul, chez eux, ne laboure ni ne touche jamais une charrue, car tous mènent une vie errante, sans demeures fixes, toujours semblables à des fugitifs avec leurs chariots dans lesquels ils habitent. C'est là que leurs épouses leur tissent d'affreux vêtements.

*document C : Ammien Marcellin, historien romain, IV<sup>e</sup> siècle après J-C*



document D :  
représentation d'un guerrier hun  
ou germanique, VIème siècle

6. Quelle arme porte le guerrier du document D ?

|  |  |  |  |  |  |  |  |  |  |  |  |  |  |  |
|--|--|--|--|--|--|--|--|--|--|--|--|--|--|--|
|  |  |  |  |  |  |  |  |  |  |  |  |  |  |  |
|  |  |  |  |  |  |  |  |  |  |  |  |  |  |  |
|  |  |  |  |  |  |  |  |  |  |  |  |  |  |  |
|  |  |  |  |  |  |  |  |  |  |  |  |  |  |  |

7. Les Huns sont-ils nomades ou sédentaires ?

|  |  |  |  |  |  |  |  |  |  |  |  |  |  |  |
|--|--|--|--|--|--|--|--|--|--|--|--|--|--|--|
|  |  |  |  |  |  |  |  |  |  |  |  |  |  |  |
|  |  |  |  |  |  |  |  |  |  |  |  |  |  |  |
|  |  |  |  |  |  |  |  |  |  |  |  |  |  |  |
|  |  |  |  |  |  |  |  |  |  |  |  |  |  |  |

8. De quoi se nourrissent les Huns ?

|  |  |  |  |  |  |  |  |  |  |  |  |  |  |  |  |  |  |  |  |
|--|--|--|--|--|--|--|--|--|--|--|--|--|--|--|--|--|--|--|--|
|  |  |  |  |  |  |  |  |  |  |  |  |  |  |  |  |  |  |  |  |
|  |  |  |  |  |  |  |  |  |  |  |  |  |  |  |  |  |  |  |  |
|  |  |  |  |  |  |  |  |  |  |  |  |  |  |  |  |  |  |  |  |
|  |  |  |  |  |  |  |  |  |  |  |  |  |  |  |  |  |  |  |  |

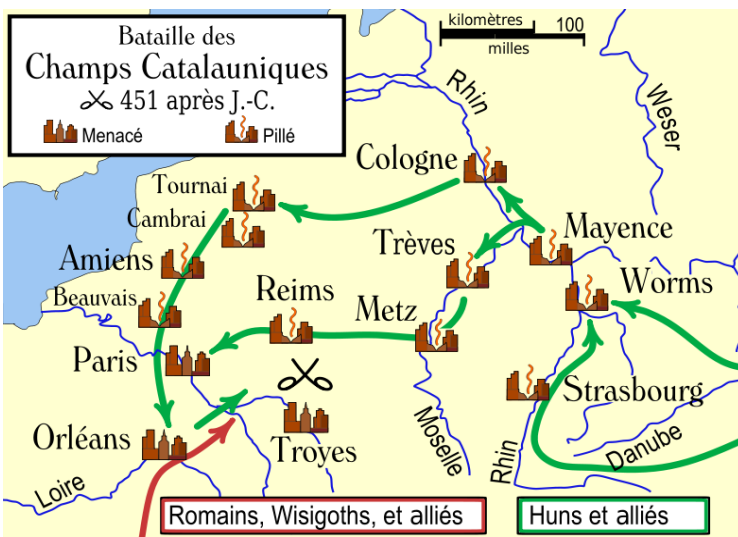
### III) Un personnage de l'époque : Attila

Attila est le chef des Huns. Il est battu par les Romains et les Wisigoths aux Champs Catalauniques en 451 de notre ère.

**Attila**  
« ses yeux petits, pleins d'un feu sombre et continuellement en mouvement lançant des regards foudroyants et portaient l'épouvante dans les cœurs. Il aimait à combattre. Il avait une poitrine large, la tête grosse, la barbe claire et mêlée, le nez court et aplati, le teint noir. »  
document E : Jordanès, un goth devenu prêtre chrétien, VIème siècle après J-C



document F : portrait d'Attila dans un manuel scolaire du XXème siècle



document G : carte de la bataille des champs catalauniques

**Le souvenir d'Attila**  
Attila a laissé un souvenir terrifiant. Les historiens chrétiens disent d'Attila qu'il est « le fléau de Dieu ». Cette image de lui a été transmise au fil des siècles.  
Aujourd'hui encore, une expression est utilisée: « Là où Attila passe, l'herbe ne repousse pas. »  
Document H : Jean - Michel Lambin, © Hachette Education



9. Lequel de ces documents est contemporain à Attila ?

|  |  |  |  |  |  |  |  |  |  |  |  |  |  |  |  |  |  |  |  |  |  |  |
|--|--|--|--|--|--|--|--|--|--|--|--|--|--|--|--|--|--|--|--|--|--|--|
|  |  |  |  |  |  |  |  |  |  |  |  |  |  |  |  |  |  |  |  |  |  |  |
|  |  |  |  |  |  |  |  |  |  |  |  |  |  |  |  |  |  |  |  |  |  |  |

10. Quel est le surnom donné à Attila ?

|  |  |  |  |  |  |  |  |  |  |  |  |  |  |  |  |  |  |  |  |  |  |  |
|--|--|--|--|--|--|--|--|--|--|--|--|--|--|--|--|--|--|--|--|--|--|--|
|  |  |  |  |  |  |  |  |  |  |  |  |  |  |  |  |  |  |  |  |  |  |  |
|  |  |  |  |  |  |  |  |  |  |  |  |  |  |  |  |  |  |  |  |  |  |  |
|  |  |  |  |  |  |  |  |  |  |  |  |  |  |  |  |  |  |  |  |  |  |  |
|  |  |  |  |  |  |  |  |  |  |  |  |  |  |  |  |  |  |  |  |  |  |  |

11. Dans quelle région se trouvent les champs Catalauniques ?

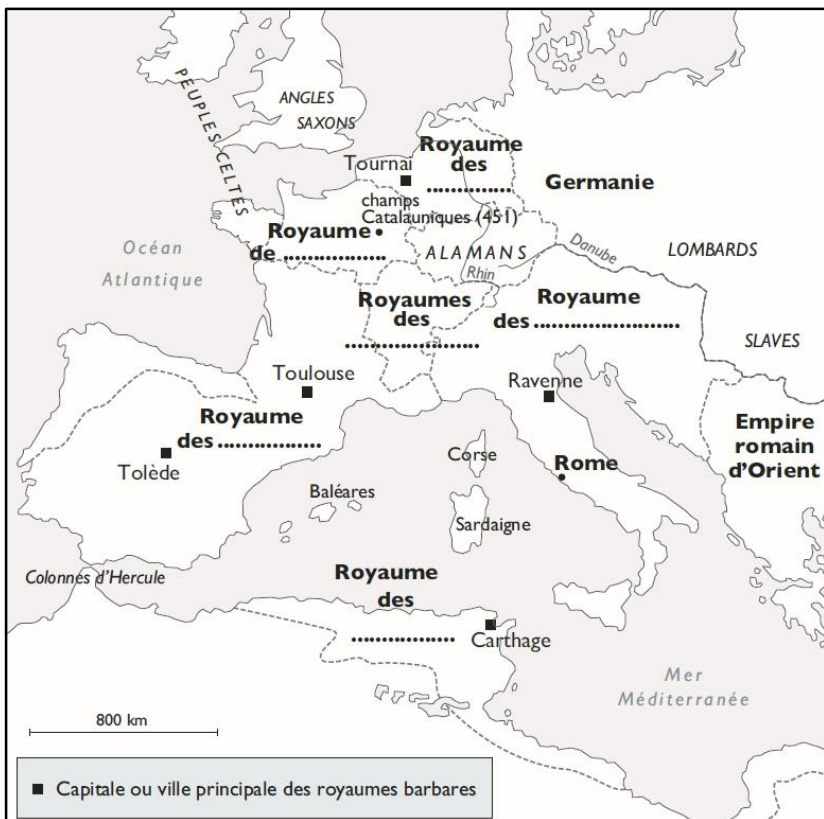
|  |  |  |  |  |  |  |  |  |  |  |  |  |  |  |  |  |  |  |  |  |  |  |
|--|--|--|--|--|--|--|--|--|--|--|--|--|--|--|--|--|--|--|--|--|--|--|
|  |  |  |  |  |  |  |  |  |  |  |  |  |  |  |  |  |  |  |  |  |  |  |
|  |  |  |  |  |  |  |  |  |  |  |  |  |  |  |  |  |  |  |  |  |  |  |
|  |  |  |  |  |  |  |  |  |  |  |  |  |  |  |  |  |  |  |  |  |  |  |
|  |  |  |  |  |  |  |  |  |  |  |  |  |  |  |  |  |  |  |  |  |  |  |

12. Cite deux villes françaises détruites par les Huns d'Attila ?

|  |  |  |  |  |  |  |  |  |  |  |  |  |  |  |  |  |  |  |  |  |  |  |
|--|--|--|--|--|--|--|--|--|--|--|--|--|--|--|--|--|--|--|--|--|--|--|
|  |  |  |  |  |  |  |  |  |  |  |  |  |  |  |  |  |  |  |  |  |  |  |
|  |  |  |  |  |  |  |  |  |  |  |  |  |  |  |  |  |  |  |  |  |  |  |
|  |  |  |  |  |  |  |  |  |  |  |  |  |  |  |  |  |  |  |  |  |  |  |
|  |  |  |  |  |  |  |  |  |  |  |  |  |  |  |  |  |  |  |  |  |  |  |

IV) Quels sont les conséquences des invasions barbares ?

1. Complète cette carte à l'aide de la carte projetée et colorie chaque royaume d'une couleur différente:




document I : La Gaule et l'Occident à la fin du 5<sup>ème</sup> siècle après J-C



# Histoire :

## Les invasions barbares



Au III<sup>ème</sup> siècle après J-C, **des Barbares**, les peuples germain tentent de pénétrer dans l'Empire Romain. Pour leur résister, les **Romains fortifient leurs frontières.**

Chassées par les Huns, de redoutables cavaliers venus d'Asie centrale, les

Germain finissent par envahir l'Empire Romain à la fin du IV<sup>ème</sup> siècle: **ce sont les grandes Invasions.**

À la fin du IV<sup>ème</sup> siècle, **l'Empire Romain est partagé en deux:** l'Empire romain d'**Occident** et l'Empire romain d'**Orient**.

A partir de 376, les Wisigoths, les Burgondes et les Alamans envahissent l'Empire romain d'Occident.

**Rome est pillé par les Goths puis par les Vandales.** Mais le pire est évité puisque **les Huns d'Attila sont vaincus en 451 aux champs Catalauniques** (près de Duro Catalaunum - Châlons en Champagne - )

Chaque peuple barbare s'installe dans une région de l'Empire Romain d'Occident et forme un royaume. L'empereur romain n'a plus de pouvoir. En 476, le dernier empereur romain est assassiné. **C'est la fin de l'Empire Romain d'Occident.**

L'empire Romain d'Orient, dont la capitale est Constantinople, résiste et subsiste jusqu'en 1453, sous le nom d'**Empire Byzantin.**