

Activités ritualisées

Calcul mental

Séance 26

Activités ritualisées

CE2

Ecrire un maximum de nombres avec :

quatre

cent

huit

douze

vingt



CM1

Combien vaut une graduation ?

17 000 18 000 19 000



Activités ritualisées

CE2

Ecrire un maximum de nombres avec :

quatre

cent

huit

douze

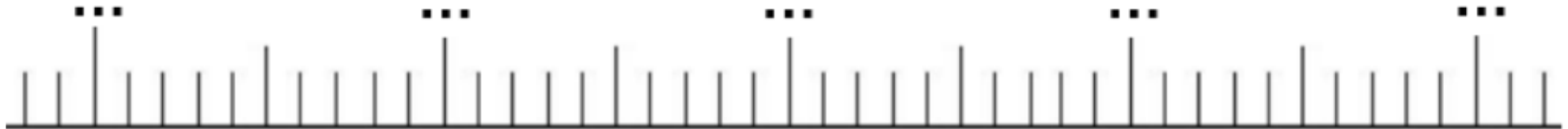
vingt



CM1


Combien vaut une graduation ?

53 500 54 500 55 500




Calcul mental


CE2



J'achète un livre à 2 €. Je donne un billet de 5 €. **Combien le marchand va-t-il me rendre ?**



CM1


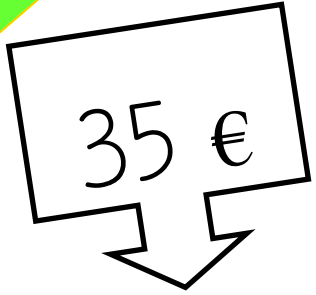


Si un kilo de tomates coute 1€50, est-ce que je peux acheter 6 kilos de tomates avec 10 € ?



Calcul mental

CE2



CM1

Multiplication à un chiffre :
Pour calculer 27×6 : je multiplie les unités avec les unités, puis je multiplie les unités avec les dizaines.


$$27 \times 6 = (7 \times 6) + (20 \times 6)$$

$$27 \times 6 = \dots\dots\dots + \dots\dots\dots$$

$$27 \times 6 =$$

Calcul mental

CE2



CM1


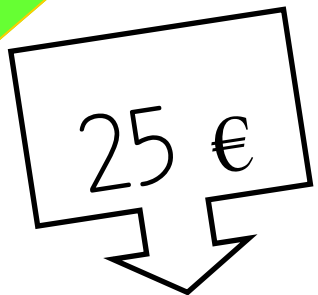
Multiplication à un chiffre :
Je multiplie les unités avec
les unités, puis je multiplie
les unités avec les dizaines.

$$16 \times 5 =$$



Calcul mental

CE2



CM1


Multiplication à un chiffre :
Je multiplie les unités avec
les unités, puis je multiplie
les unités avec les dizaines.

$$21 \times 4 =$$



Calcul mental

CE2



CM1

Multiplication à un chiffre :
Je multiplie les unités avec
les unités, puis je multiplie
les unités avec les dizaines.

$$33 \times 5 =$$



Activités ritualisées

Calcul mental

Séance 27



Dictée de
nombres

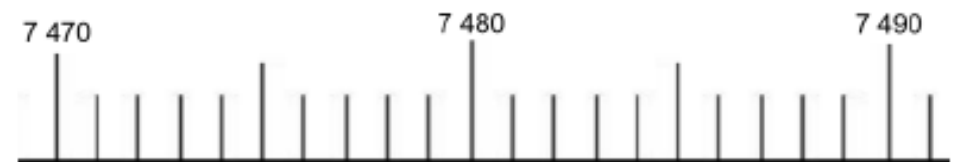
CM1

Le nombre du jour (2)

1/ écrire dans le tableau :

millions			mille			unités		
C	D	U	C	D	U	C	D	U

2/ Placer sur la droite graduée le nombre :



3/ Encadrer le nombre à la dizaine près :

_____ < < _____



Activités ritualisées

CE2

Ajouter le signe < ou >.

714 ... 807

681 ... 679



CM1

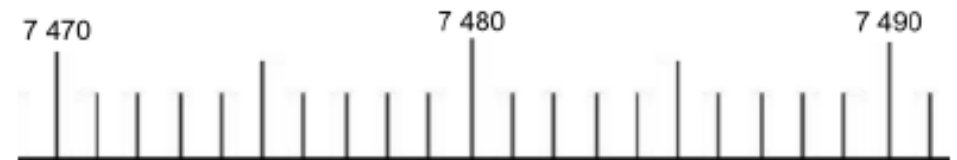
CM1

Le nombre du jour (2)

1/ écrire dans le tableau :

millions			mille			unités		
C	D	U	C	D	U	C	D	U

2/ Placer sur la droite graduée le nombre :



3/ Encadrer le nombre à la dizaine près :

_____ < < _____



Activités ritualisées

CE2

Ranger les trois nombres du plus petit au plus grand :

984

975

968



CM1

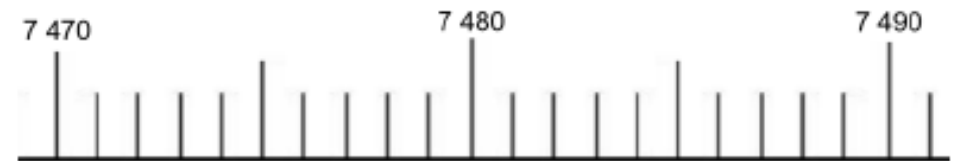
CM1

Le nombre du jour (2)

1/ écrire dans le tableau :

millions			mille			unités		
C	D	U	C	D	U	C	D	U

2/ Placer sur la droite graduée le nombre :



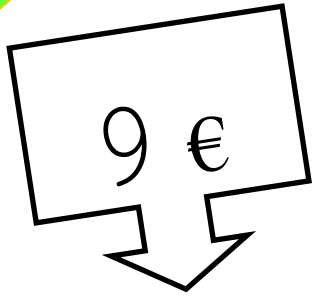
3/ Encadrer le nombre à la dizaine près :

_____ < < _____



Calcul mental

CE2



CM1



Calcul mental

CE2

CM1

5 €



Activités ritualisées

Calcul mental

Séance 28



Dictée de
nombres

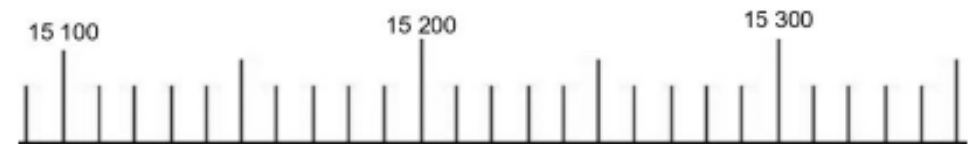
CM1

Le nombre du jour (2)

1/ écrire dans le tableau :

millions			mille			unités		
C	D	U	C	D	U	C	D	U

2/ Placer sur la droite graduée le nombre :



3/ Encadrer le nombre à la centaine près :

_____ < < _____



Activités ritualisées

CE2

Ajouter le signe < ou >.

1 074 ... 1 078

1 081 ... 1 073



CM1

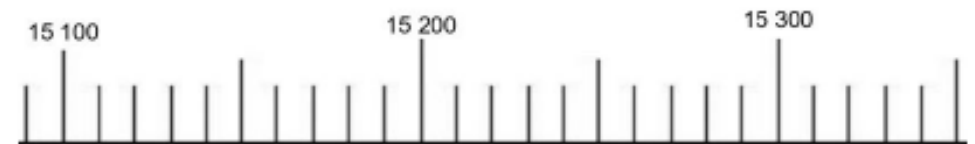
CM1

Le nombre du jour (2)

1/ écrire dans le tableau :

millions			mille			unités		
C	D	U	C	D	U	C	D	U

2/ Placer sur la droite graduée le nombre :



3/ Encadrer le nombre à la centaine près :

_____ < > _____



Ranger les trois nombres
du plus petit au plus
grand :

1 078

1 081

1 077



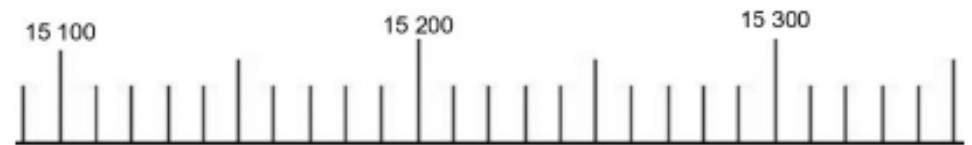
CM1

Le nombre du jour (2)

1/ écrire dans le tableau :

millions			mille			unités		
C	D	U	C	D	U	C	D	U

2/ Placer sur la droite graduée le nombre :



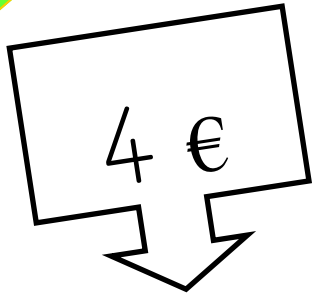
3/ Encadrer le nombre à la centaine près :

_____ < < _____



Calcul mental

CE2



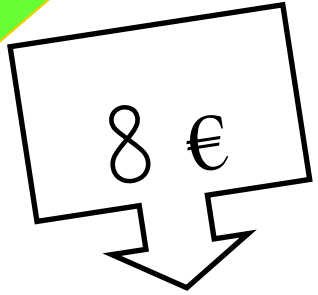
CM1

$$23 \times 6 =$$



Calcul mental

CE2



CM1

$$35 \times 4 =$$



Activités ritualisées

Calcul mental

Séance 29



Ecrire en lettres :

1 308

1 694

CM1

Le nombre du jour (2)

1/ écrire dans le tableau :

millions			mille			unités		
C	D	U	C	D	U	C	D	U

2/ Placer sur la droite graduée le nombre :



3/ Encadrer le nombre à la dizaine près :

_____ < < _____



Calcul mental
CE2

CM1

$$28 \times 3 =$$



Calcul mental
CE2

CM1

$$46 \times 3 =$$



Activités ritualisées

Calcul mental

Séance 30



Ecrire en lettres :

1 190

1 213

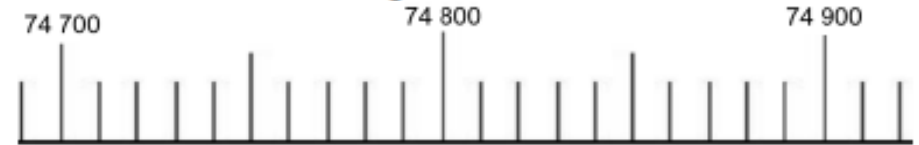
CM1

Le nombre du jour (2)

1/ écrire dans le tableau :

millions			mille			unités		
C	D	U	C	D	U	C	D	U

2/ Placer sur la droite graduée le nombre :



3/ Encadrer le nombre à la centaine près :

_____ < < _____



Activités ritualisées

CE2



Dessiner avec des ronds :

$$2 \times 8$$

CM1

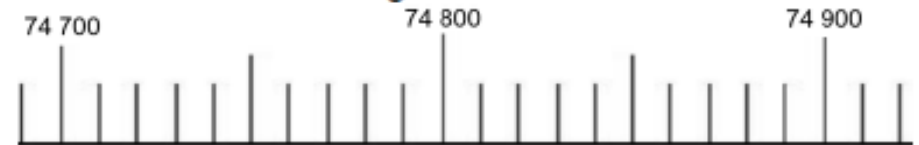
CM1

Le nombre du jour (2)

1/ écrire dans le tableau :

millions			mille			unités		
C	D	U	C	D	U	C	D	U

2/ Placer sur la droite graduée le nombre :



3/ Encadrer le nombre à la centaine près :

_____ < < _____



Calcul mental
CE2

CM1






Activités ritualisées

Calcul mental


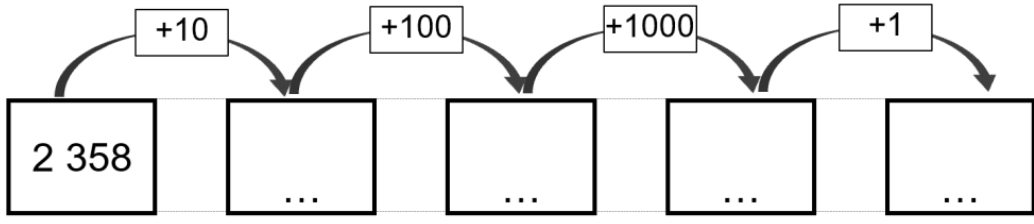
Séance 31

Calcul mental

CE2

	Le nombre juste★	1
+ - X 24 1 - 2 - 3 - 4 - 5		
	Le nombre juste★	2
+ - X 20 2 - 5 - 7 - 8 - 10		
	Le nombre juste★	3
+ - X 17 4 - 8 - 5 - 5 - 10		
	Le nombre juste★	4
+ - X 25 5 - 7 - 8 - 10 - 10		

CM1

	Calculus ★	1
Calcule :		
		

Activités ritualisées

Calcul mental

Séance 32

Activités ritualisées

CE2

Le double de :

376



CM1

Le jeu de l'oie ajouter / retrancher 99

départ + 99	- 99	+ 99		- 99	+ 99	- 99
- 99		+ 99	- 99		+ 99	
+ 99		- 99		+ 99	- 99	
+ 99	- 99		+ 99	- 99		+ 99
- 99	+ 99		- 99		+ 99	 arrivée

@akademi | <http://www.leslogiciels.com>



Activités ritualisées

CE2

CM1



Le jeu de l'oie ajouter / retrancher 99

départ + 99	- 99	+ 99		- 99	+ 99	- 99
- 99		+ 99	- 99		+ 99	
+ 99		- 99		+ 99	- 99	
+ 99	- 99		+ 99	- 99		+ 99
- 99	+ 99		- 99		+ 99	 arrivée

@skanli | <http://www.lescopistes.com>



Calcul mental

CE2



CM1

Le jeu de l'oie ajouter / retrancher 99

départ + 99	- 99	+ 99		- 99	+ 99	- 99
- 99		+ 99	- 99		+ 99	
+ 99		- 99		+ 99	- 99	
+ 99	- 99		+ 99	- 99		+ 99
- 99	+ 99		- 99		+ 99	 arrivée

@akademi | <http://www.akademi.com>

Activités ritualisées

Calcul mental

Séance 33

Activités ritualisées

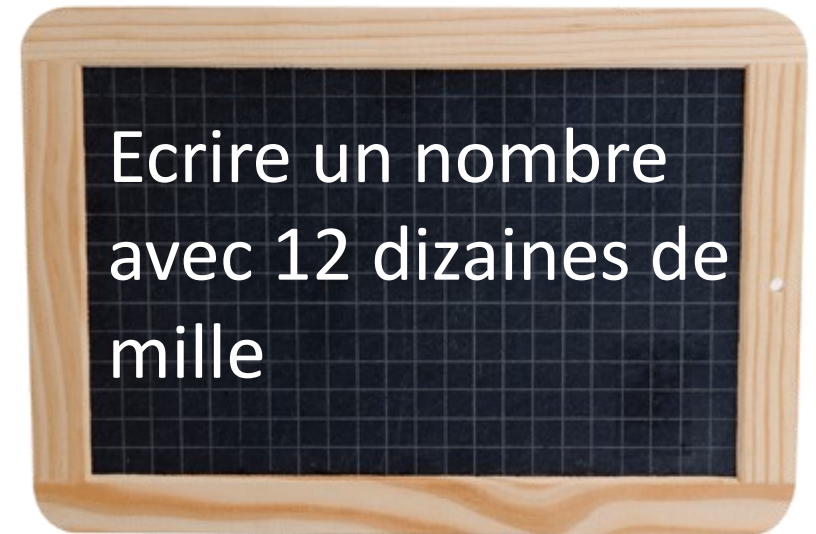
CE2

Le double de :

458



CM1



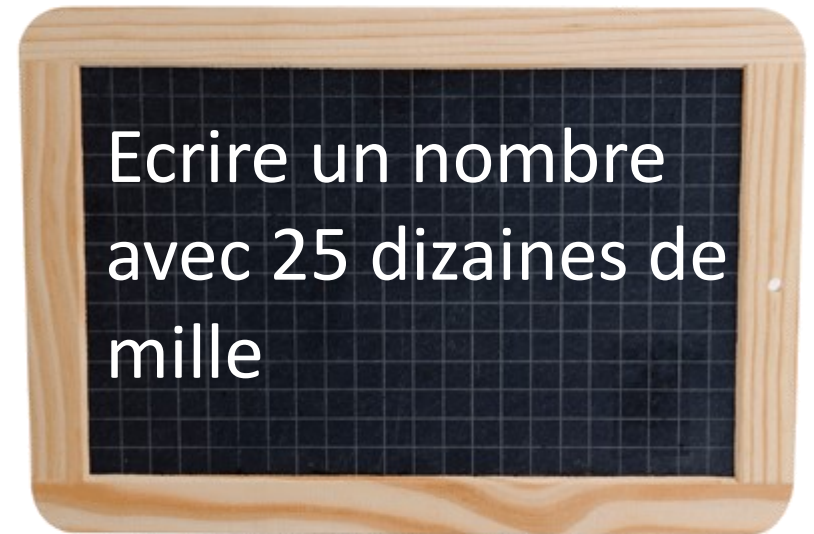
Encadre ce nombre à la centaine près.

Activités ritualisées

CE2



CM1



Encadre ce nombre à la
centaine près.



Calcul mental
CE2

CM1



Activités ritualisées

Calcul mental

Séance 34

Activités ritualisées

CE2

CM1

Le double de :


283




Activités ritualisées

CE2

CM1



Dictée de nombres



Dictée de nombres

Calcul mental

CE2

Encadrer entre deux
dizaines entières :

... < 608 < ...

... < 717 < ...



CM1



Activités ritualisées

Calcul mental

Séance 35

Activités ritualisées

CE2

CM1

Le double de :


347




Activités ritualisées

CE2

CM1



Dictée de nombres



Dictée de nombres

Calcul mental

CE2

Décomposer :

1 250 :

1 308 :

1 701 :

CM1

