

Prénom : .....

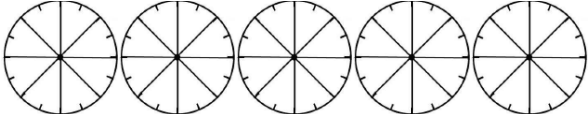
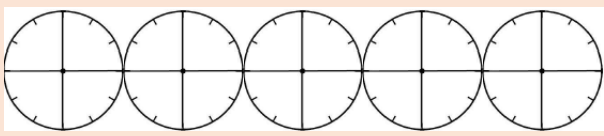


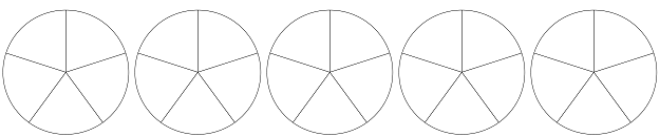
Date : .....

# LES FRACTIONS

Entraînement

n°...

1) **Ecris les fractions qui correspondent aux parties coloriées de chaque dessin.**

	→
	→
	→
	→
	→

2) **Ecris chaque nombre entier qui encadre les fractions.**

*Pour t'aider, tu peux tracer les lignes graduées sur ton ardoise.*

....< <....	....< <....	....< <....	....< <....
....< <....	....< <....	....< <....	....< <....

3) Décompose les fractions, comme te le montrent les exemples.

$$\frac{8}{3} = \frac{3}{3} + \frac{3}{3} + \frac{2}{3} = 2 + \frac{2}{3}$$


$$3 + \frac{1}{5} = \frac{5}{5} + \frac{5}{5} + \frac{5}{5} + \frac{1}{5} = \frac{16}{5}$$


4) Ecris le résultat des additions de fractions.
