




**Je sais écrire des mots et placer les accents.**

1. Orthographe 


**Recopie en mettant les accents:**  
 une sorciere - une journee  
 la television - il achete - la fee  
 une annee - la tete - la reponse

2. Orthographe 


**Complète avec e ou è**




**Je comprends ce que je lis.**

1. Lecture 

Fais la fiche 5

2. Lecture 

Fais la fiche 6

3. Lecture 

Fais la fiche 7

**Je reconnais les noms et les déterminants.**

1. Grammaire 

**Indique la nature de chaque nom (nom commun, nom propre)**  
 Carine: nom.....  
 chat : nom.....  
 Guillaume : nom.....  
 France : nom.....  
 pays : nom.....  
 ville : nom.....  
 Paris : nom.....


3. Grammaire 

**Trouve 5 déterminants :**  
 .....-.....-.....-.....-.....

**5 noms communs :**  
 .....-.....-.....-.....-.....


**5 noms propres :**  
 .....-.....-.....-.....-.....

**Je connais le singulier et le pluriel.**


2. Grammaire 

**Classe les groupes suivants.**  
 mes leçons - mon ami  
 ton école - les devoirs  
 mes copains - la cour




singulier	pluriel
.....	.....
.....	.....
.....	.....




4. Grammaire 

**Transforme les groupes suivants au singulier.**  
 les verres - des tables  
 les stylos - les tuyaux  
 des assiettes - les filles

5. Grammaire 

**Transforme les groupes suivants au pluriel.**  
 le crayon - mon frère  
 la gomme - le voyage  
 la poubelle - l'ami

Je sais calculer en ligne	
○ 1. Calcul	
4 + 9 = ...	9 + 5 = ...
8 + 7 = ...	5 + 7 = ...
3 + 8 = ...	8 + 5 = ...
8 + 6 = ...	6 + 5 = ...
○ 2. Calcul	
36 = 30 + ....	29 = .... + 9
48 = 40 + ....	37 = .... + 7
12 = .... + 2	25 = 20 + ....
14 = 10 + ....	56 = .... + 6
○ 3. Calcul	
<b>Recopie en complétant avec le nombre qui manque:</b>	
10 + 1 = ..... + 8	12 + 4 = 9 + .....
14 + 5 = 12 + .....	9 + 4 = 2 + .....
16 + ..... = ..... + 9	9 + 5 = 8 + .....

Je connais les dizaines et les unités	
○ 1. Numération	
<b>Recopie et complète:</b>	
10 + 10 + 10 + 10 = .....	
10 + 10 + 10 + 5 = .....	
10 + 10 + 10 + 10 + 10 + 8 = .....	
10 + 10 + 10 + 10 + 10 + 10 = .....	
..... = 15	
..... = 41	
..... = 38	
..... = 53	
○ 2. Numération	
<b>Recopie et complète:</b>	
2 unités et 3 dizaines = 32	
1 u et 4 d = .....	
1 d et 4 u = .....	
5 d et 2 u = .....	
5 u et 2 d = .....	
4 d et 1 u = .....	
3 d et 9 u = .....	
○ 3. Numération	
<b>Recopie et entoure le chiffre 3 chaque fois qu'il représente le chiffre des unités:</b>	
23 – 35 – 38 – 43 – 13 – 33	

Prénom : .....

Colorie les jours du plan au fur et à mesure :

Lundi 7	Mardi 8	Jeudi 10	Vendredi 11
Lundi 14	Mardi 15	Jeudi 17	Vendredi 18

# 3