



## Des réseaux en « étoile »

# Découvrir

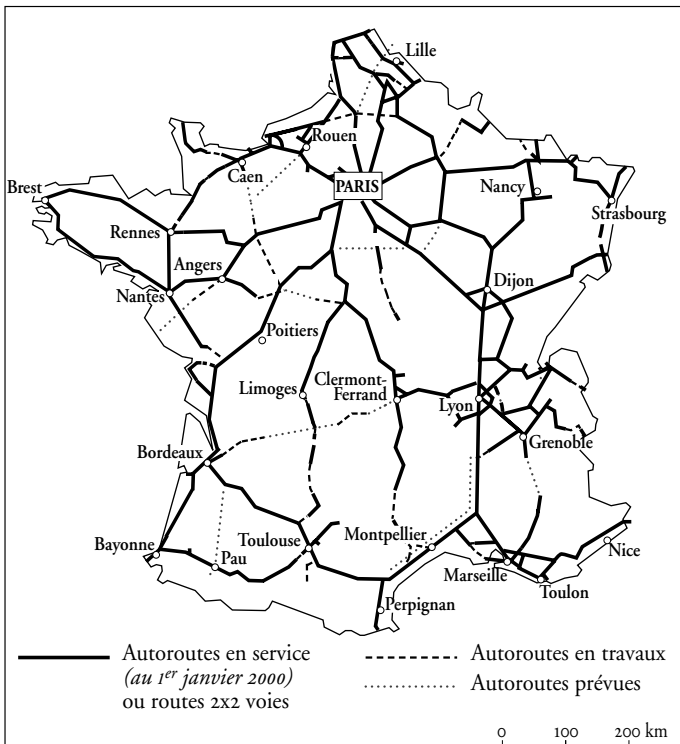
**a** Observe les deux cartes. Trouves-tu qu'elles se ressemblent? Pourquoi?

\_\_\_\_\_

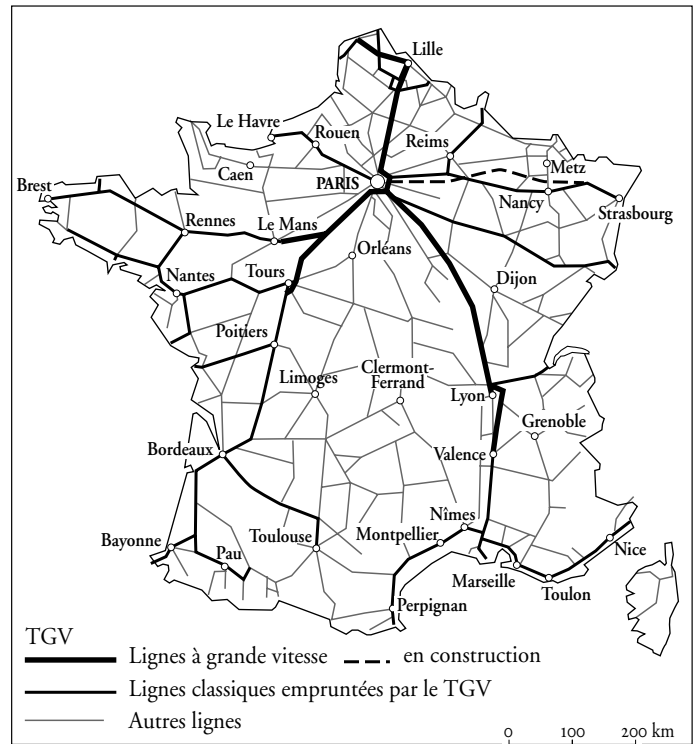
**b** Quelle est la région la plus mal desservie par l'autoroute?

\_\_\_\_\_

**c** Dessine au crayon bleu le trajet de Bordeaux à Dijon, par l'autoroute.  
Est-ce plus pratique par le train? \_\_\_\_\_



Le réseau autoroutier



Le réseau ferroviaire


**d** Quel est le point central du réseau de communication français?

\_\_\_\_\_



Aller plus loin

**1** Quels modes de transport repères-tu sur ce document ?



\_\_\_\_\_

\_\_\_\_\_

\_\_\_\_\_

On appelle plate-forme **multimodale** le lieu où se rencontrent différents moyens de transport.

**2** Observe le tableau puis réponds aux questions.

|                       | 1983   | 1986   | 1995   |
|-----------------------|--------|--------|--------|
| Transport ferroviaire | 28,5 % | 25,5 % | 21 %   |
| Transport routier     | 53,6 % | 57,3 % | 65,7 % |
| Navigation intérieure | 4,4 %  | 3,6 %  | 3 %    |
| Oléoduc               | 13,5 % | 13,6 % | 10,3 % |

a. Quel est le mode de transport le plus important ?

En 1983 : \_\_\_\_\_ En 1995 : \_\_\_\_\_

b. Quel est le mode de transport le moins utilisé ?

En 1983 : \_\_\_\_\_ En 1995 : \_\_\_\_\_

c. Le transport ferroviaire augmente-t-il ? \_\_\_\_\_

d. Quel mode de transport est en progression constante ? \_\_\_\_\_

■ Le réseau des transports ressemble à une étoile dont le centre est Paris. Il est plus développé à l'est d'une ligne Le Havre-Marseille.

■ On distingue transport de **personnes** et transport de **marchandises**. La majorité des transports de marchandises se fait **par route**.



Retenir

| Repérer les grandes voies de communication en France