

Prénom :


Date :




Evaluation

Le littoral


Ecris le nom de chaque type de côte : basse, rocheuse, à falaise.



une côte



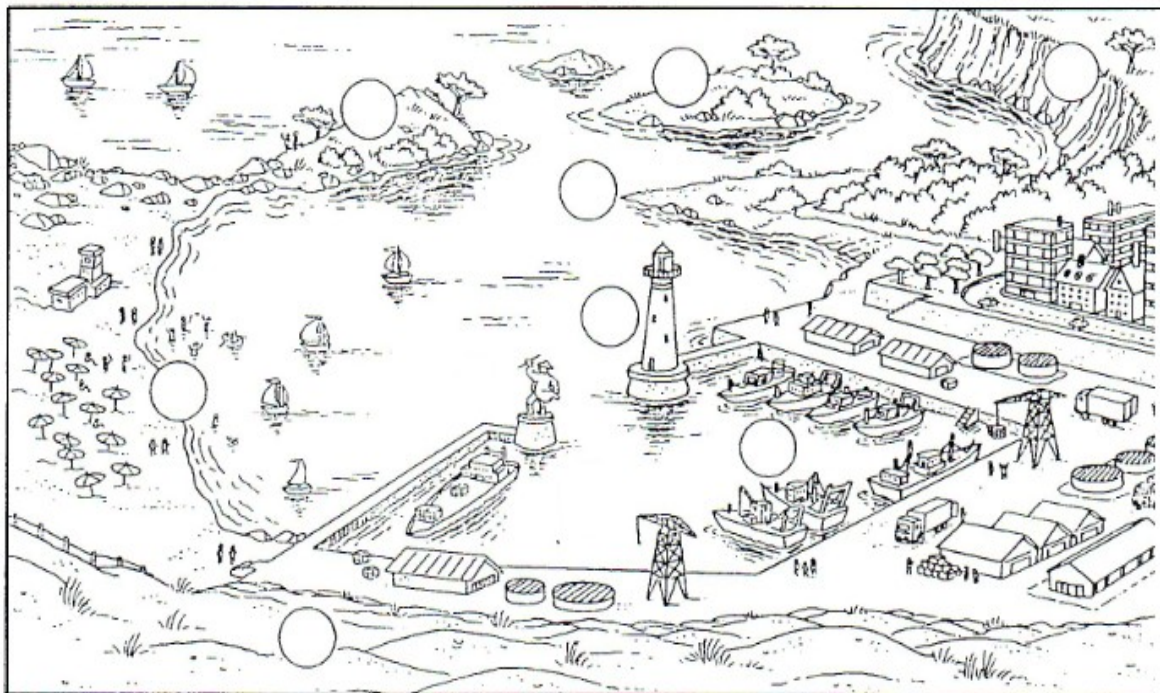
une côte



une côte

Place les numéros dans chaque bulle:

- | | | | |
|---------------|-------------|------------------|--------------|
| 1) la plage | 2) le port | 3) la presqu'île | 4) les dunes |
| 5) la falaise | 6) le phare | 7) l'île | 8) le cap |



Complète chaque étiquette :

la Manche, l'océan Atlantique, la mer Méditerranée

