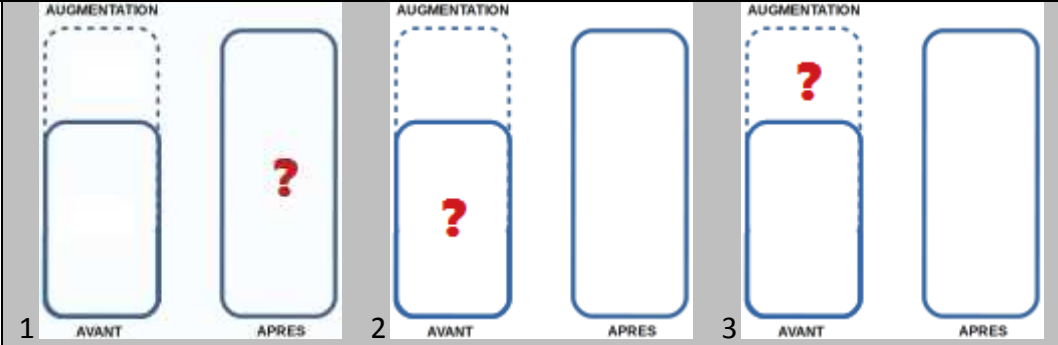
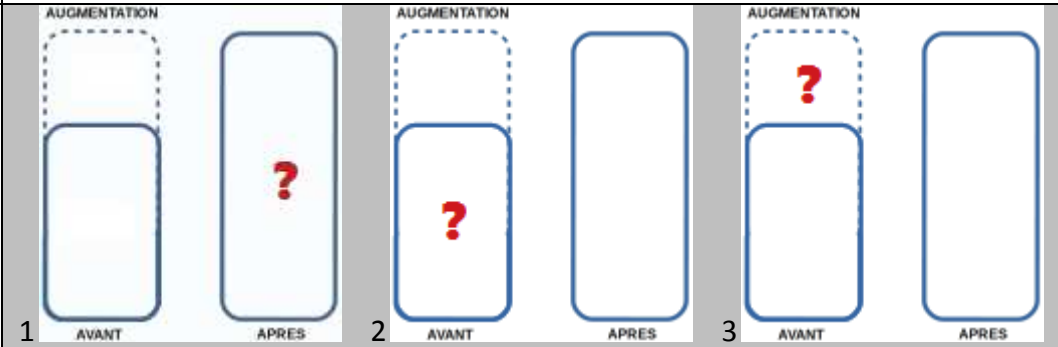
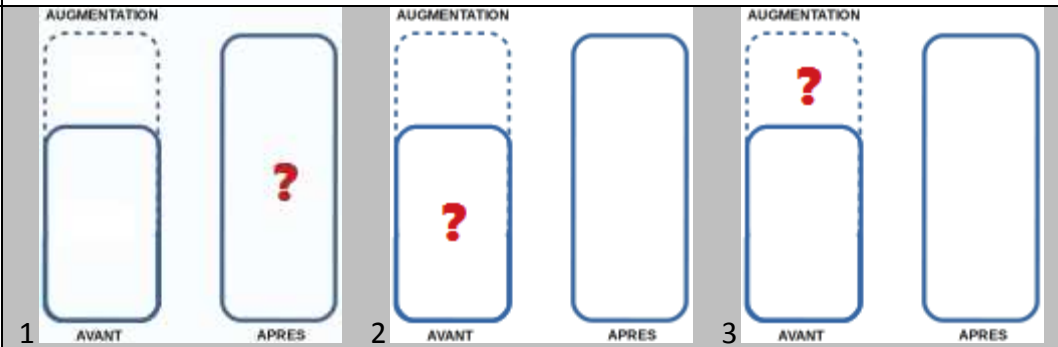


Prénom :

Ceinture blanche - je passe le test 1/ 2/ 3

Date :

<p>A</p> <p>Je choisis et complète le schéma approprié.</p>		<p>Score sur 5</p>
<p>A</p> <p>Je calcule et écris la phrase réponse.</p>		
<p>B</p> <p>Je choisis et complète le schéma approprié.</p>		<p>Score sur 5</p>
<p>B</p> <p>Je calcule et écris la phrase réponse.</p>		
<p>C</p> <p>Je choisis et complète le schéma approprié.</p>		<p>Score sur 5</p>
<p>C</p> <p>Je calcule et écris la phrase réponse.</p>		

<p>D</p> <p>Je choisis et complète le schéma approprié.</p>		<p>Score sur 5</p>
<p>D</p> <p>Je calcule et écris la phrase réponse.</p>		
<p>E</p> <p>Je choisis et complète le schéma approprié.</p>		<p>Score sur 5</p>
<p>E</p> <p>Je calcule et écris la phrase réponse.</p>		
<p>F</p> <p>Je choisis et complète le schéma approprié.</p>		<p>Score sur 5</p>
<p>F</p> <p>Je calcule et écris la phrase réponse.</p>		
<p>Total sur 30 :</p>	<p>Pour avoir ma ceinture, il faut que j'obtienne au minimum 25 sur 30.</p>	