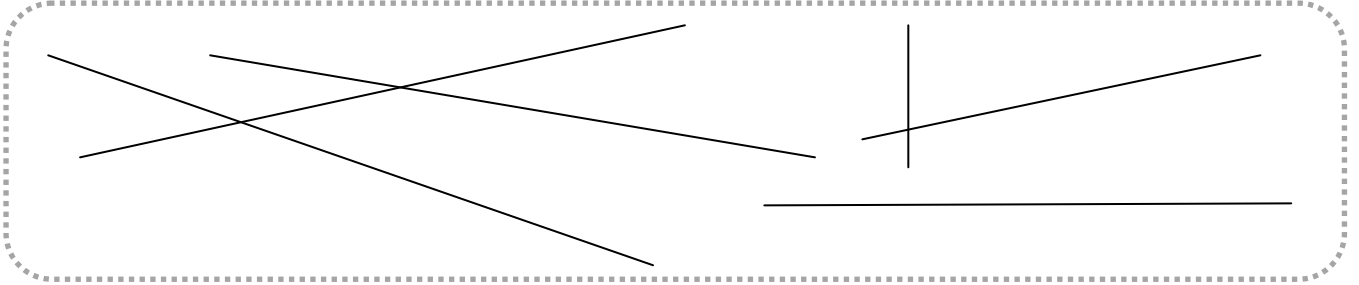
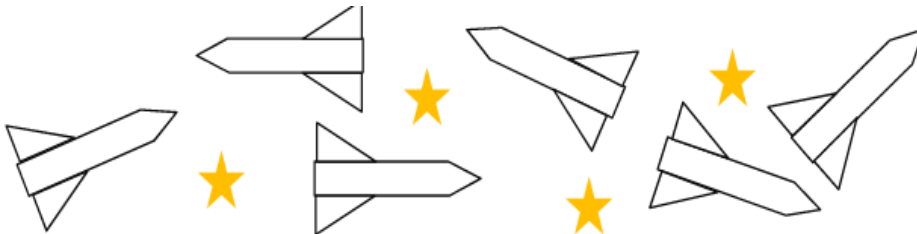


1 Mesures de longueurs (2)A) Repasse en vert les segments mesurant 8 cm.B) Prolonge le segment pour qu'il mesure 8 cm :2 S'orienter dans l'espaceExercices tirés de <http://classeurdecole.fr/wordpress/>A) Colorie en orange les fusées qui se dirigent vers la gauche :Colorie en vert les fusées qui se dirigent vers la droite :B) Entoure les raquettes qui sont à gauche du sac. Dessine une boîte à droite du sac.C) Entoure quand le chien court à gauche du cycliste.D) Colorie les mains droites.

3 Les nombres jusqu'à 999

A) Écris ces nombres du plus petit au plus grand.

.....

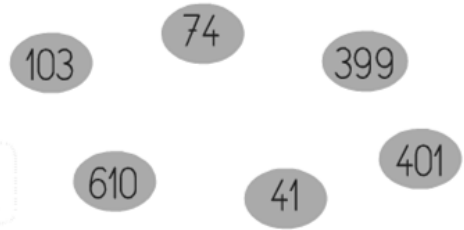
.....

.....

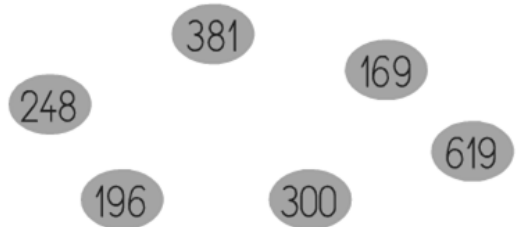
.....

.....

.....



B) Ces nombres étaient rangés avec les autres du plus petit au plus grand. Moustik les a enlevés. Écris-les à leur place.



.....

.....

200

.....

271

.....

328

.....

509

.....

C) Complète :

Pour avoir 270 euros il faut :

..... billets de 100 €

..... billets de 10 €

..... pièces de 1 €

Pour avoir 857 euros il faut :

..... billets de 10 €

..... pièces de 1 €

..... billets de 100 €

Pour avoir 408 euros il faut :

..... pièces de 1 €

..... billets de 10 €

..... billets de 100 €

D) Ecris en chiffres :

quatre cent vingt-sept	sept cent neuf
trois cent soixante-dix-huit	huit cent dix-neuf
cent treize	neuf cents

E) Ecris en lettres :

502 -----

205 -----

520 -----

250 -----